



පරිගණක උසස් විද්‍යාලය - රත්නපුර

01 S I

13 වන ශ්‍රේණිය

පසු විර පරීක්ෂණය - 2023 මැයි

භෞතික විද්‍යාව - I


කාලය
පැය 2 ටී

උපදෙස්

- ◆ මෙම ප්‍රශ්න පත්‍රයේ ප්‍රශ්න 50 ක්, පිටු 10 අඩංගු වේ.
- ◆ සියලුම ප්‍රශ්න වලට පිළිතුරු සපයන්න.
- ◆ පිළිතුරු පත්‍රයේ නියමිත ක්‍රමයෙන් මෙහි විභාග අංකය ලියන්න.
- ◆ පිළිතුරු පත්‍රයේ පිටුපස දී ඇති උපදෙස් කිවැරදිව කියවන්න.
- ◆ 1 සිට 50 තෙක් වූ එක් එක් ප්‍රශ්නය සඳහා දී ඇති (1),(2),(3),(4),(5), යන පිළිතුරු වලින් කිවැරදි හෝ අසාධාරණ හැඳුනවන හෝ පිළිතුරු සැපයිය නොහැකි, එය ; පිළිතුරු පත්‍රයේ පිටුපස දැක්වෙන උපදෙස් පරිදි කැබරයකින් (x) ලකුණු කරන්න.

භෞතික විද්‍යාවේ ඉඩගැසුණු පොදු සෑදුම්
(ගුරුත්වජ ත්වරණය, $g = 10 \text{ N kg}^{-1}$)

01. බ'හුලී සමීකරණයට අනුව පීඩනය (P), ඝනත්වය (ρ), ප්‍රවේගය (v) ගුරුත්වජ ත්වරණය (g) හා උස (h) අතර සම්බන්ධය $\frac{P}{\rho} + \frac{v^2}{2} + gh = C$ මගින් දෙනු ලැබේ. මෙහි C නියතයේ මාන වනුයේ,
- (1) L (2) MLT^{-1} (3) L^2T^2 (4) L^2T^{-2} (5) මාන නොමැත
02. වස්තුවක් මත යෙදෙන පීඩනය 10^4 Pa වේ. ඝනත්වය ග්‍රෑම් (g) ද, කාලය තත්පර (s) හා දිග මිලි මීටර (mm) වලින් ද ප්‍රකාශ කළ විට ඉහත පීඩනයේ අගය සමාන වනුයේ,
- (1) 10^1 (2) 10^3 (3) 10^4 (4) 10^1 (5) 10^{10}
03. P හා Q බල දෙකක සම්ප්‍රයුක්තය R වන අතර එය P ට ලම්භක වේ. P හා Q බල දෙක අතර කෝණය 150° ක් වේ නම් R සම්ප්‍රයුක්තයේ විශාලත්වය Q බලයේ විශාලත්වයට දරන අනුපාතය වනුයේ,
- (1) 2 (2) $\sqrt{2}$ (3) 1 (4) $\frac{1}{2}$ (5) $\frac{\sqrt{3}}{2}$
04. වර්තීයර් කැලිපරයක ප්‍රධාන පරිමාණය සාදා ඇත්තේ 10cm දිගක් සමාන කොටස් 200 කට බෙදීමෙනි. එහි වර්තීයර් පරිමාණය සාදා ඇත්තේ ප්‍රධාන පරිමාණයේ 12 mm දිගක් කොටස් 25 ට බෙදීමෙනි. උපකරණයේ කුඩාම මිනුම වනුයේ,
- (1) 0.020 cm (2) 0.002 cm (3) 0.010 cm (4) 0.001 cm (5) 0.200 cm
05. ඉහත ප්‍රශ්නාරයේ පෙන්වා ඇත්තේ විස්තාරය කාල ප්‍රශ්නාරයකි. ඒ සම්බන්ධයෙන් කර ඇති පහත කුමන ප්‍රකාශය සත්‍ය වේ ද ?



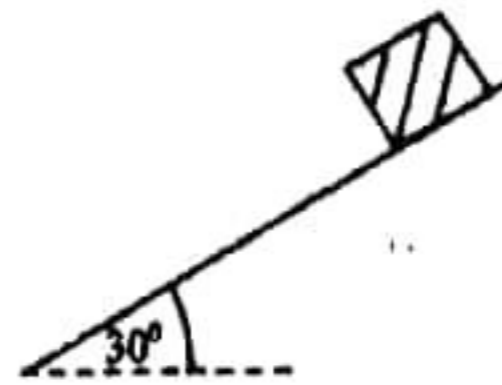
- (1) අංශු නියත ප්‍රවේගයෙන් චලනය වේ.
- (2) අංශුව නියත මන්දනයකින් ගමන් කොට අවසානයේ නියත ප්‍රවේගයක් ලබා ගනී.
- (3) අංශුව කිසියම් ප්‍රවේගයකින් චලිතය ආරම්භ කර මන්දනය වී අවසානයේ නිශ්චල වේ.
- (4) අංශුව නියත ත්වරණයෙන් චලිත වේ.
- (5) අංශුව යම් ප්‍රවේගයකින් චලිතය ආරම්භ කර ත්වරණය වී අවසානයේ නියත ප්‍රවේගයකින් ගමන් කරයි.

06. වාතයේ ගමන් ගන්නා ධ්වනි තරංගයක දෘශ්‍ය තොරතුරු ලක්ෂණයන් වන්නේ,

- (1) වර්තනය (2) පරාවර්තනය (3) නිරෝධනය (4) විවර්තනය (5) මූලිකය

07. ස්කන්ධය 5 kg වූ වස්තුවක් සිරස්ව ආනතිය 30° ක් වූ රළ පෘෂ්ඨයක් මත තබා ඇත. පෘෂ්ඨය හා වස්තුව අතර හර්ෂණ සංගුණකය μ වේ. වස්තුව නිශ්චලව සිටීමේ නම් μ හි අගය වනුයේ,

- (1) $\sqrt{3}$ (2) $\frac{\sqrt{3}}{2}$ (3) $\frac{2}{\sqrt{3}}$
 (4) $\frac{1}{\sqrt{3}}$ (5) $\frac{1}{2\sqrt{3}}$



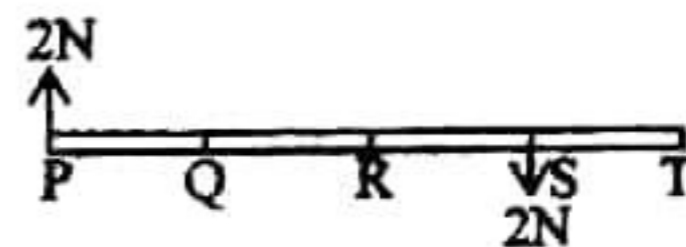
08. නිකුත් කරන ධ්වනි තරංග වල තරංග ආයාමය λ වූ ප්‍රභව දෙකක් (S_1 හා S_2) දෙන ලද දුරකින් අවලව තබා ඇත. ඉම්පියු ප්‍රභව දෙක අතර u නියත ප්‍රවේගයකින් ගමන් කරයි. ඉම්පියව තත්වයට ඇසෙන ක්‍රමාංකුම් සංඛ්‍යාව වනුයේ

- (1) $\frac{u}{2\lambda}$ (2) $\frac{u}{\lambda}$ (3) $\frac{u}{3\lambda}$ (4) $\frac{3u}{2\lambda}$ (5) $\frac{2u}{\lambda}$



09. ඔර 3N වූ එකාකාර PT දණ්ඩ සිරස්ව තබා ඇත්තේ සිරස් බල මගිනි. මින් බල දෙකක් රූපයේ දැක්වේ. P, Q, R, S හා T ලක්ෂ්‍ය දණ්ඩ දිගේ සම්පූර්ණ පිහිටා ඇත්නම්, දණ්ඩ සමතුලිතතාවයේ පවත්වාගනු පිණිස 3N වූ සිරස් බලය යෙදිය යුත්තේ කුමන ලක්ෂ්‍යයේ ද ?

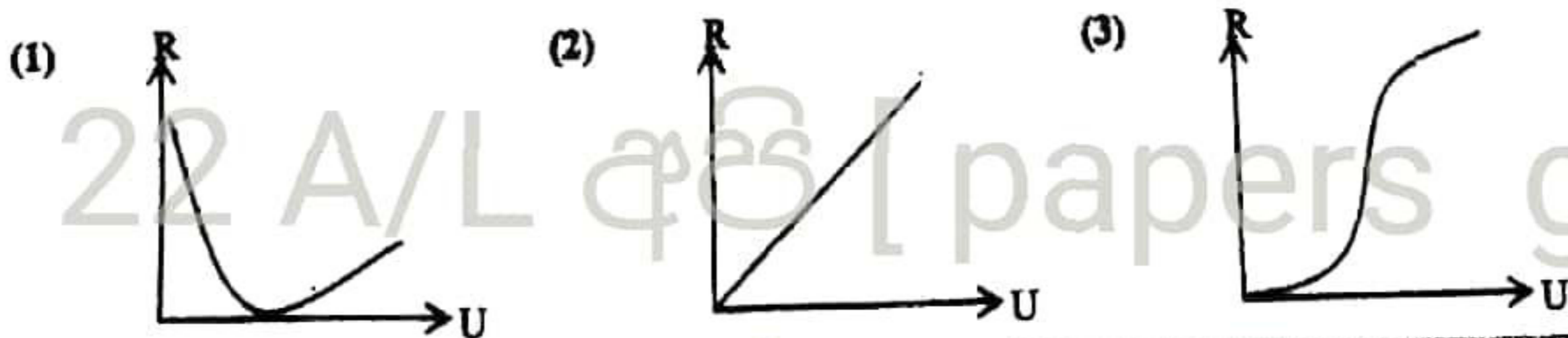
- (1) P (2) Q (3) R (4) S (5) T

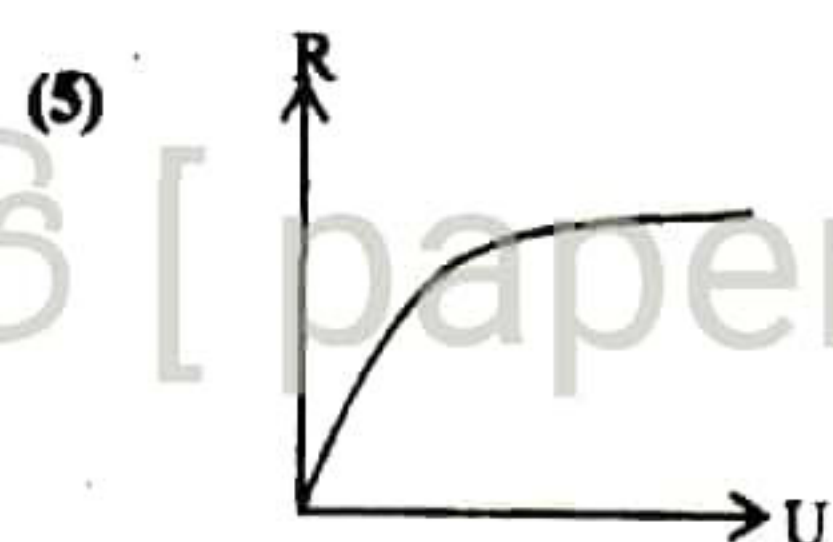
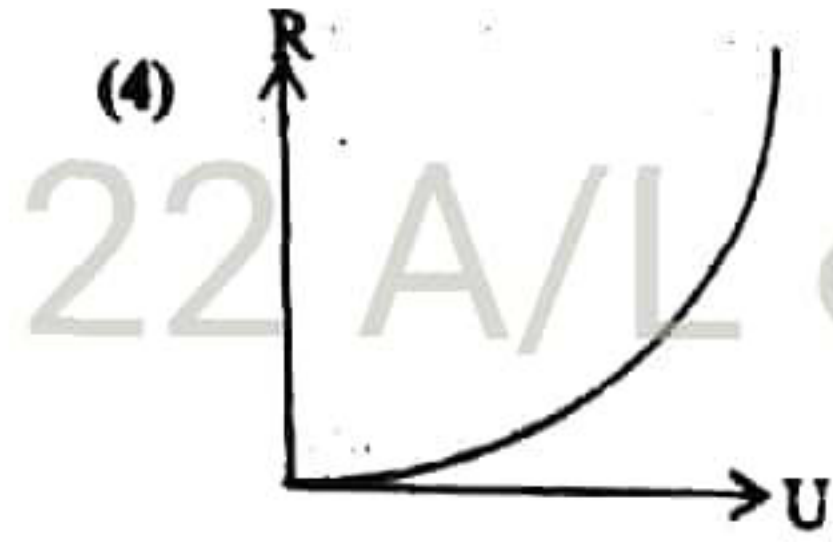


10. උෂ්ණත්වය 28°C වන දිනයේදී බට තලාවක් සුහර කර ඇත. උෂ්ණත්වය 32.5°C දක්වා ඉහළ ගිය විට තලාවෙන් නිකුත් වන ස්වරය,

- (1) වාතයේ ධ්වනි ප්‍රවේගය අඩුවන නිසා පහත් වේ.
 (2) ධ්වනි තරංගයේ තරංග ආයාමය දිගු නිසා පහත් වේ.
 (3) ධ්වනි තරංග ප්‍රවේගය වැඩි නිසා උස් වේ.
 (4) තරංග ආයාමය අඩු නිසා උස් වේ.
 (5) ධ්වනි තරංග ප්‍රවේගය වැඩිවන විට තරංග ආයාමය වැඩිවන නිසා වෙනසක් නොවේ.

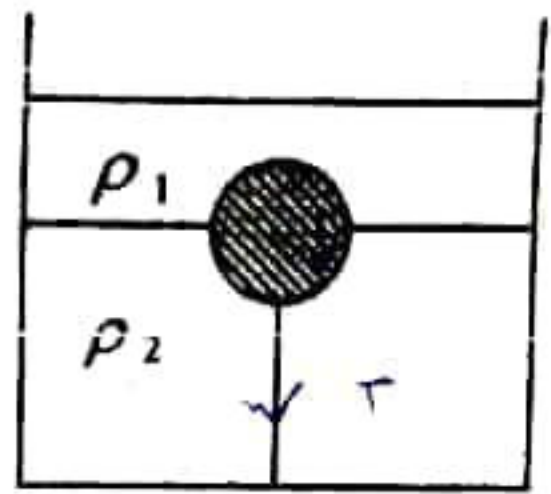
11. සිරස සමඟ θ කෝණයක් ආනතාව U ප්‍රවේගයෙන් වස්තුවක් ප්‍රක්ෂේපනය කරනු ලැබේ. දී ඇති θ කෝණයක් සඳහා වස්තුවේ සිරස් පරාසය R, U සමඟ වෙනස් වන ආකාරය නිවැරදිව දක්වන ප්‍රස්තාරය වන්නේ,





12. රූපයේ පරිදි බඳුනක එකිනෙක මිශ්‍ර නොවන, ඝනත්වයෙන් ρ_1 හා ρ_2 වූ ද්‍රව දෙකක් ඇති අතර ඝනත්වය m හා පරිමාව V වූ ගෝලයක් එහි පරිමාවෙන් හරි අඩක් ඉහළ ද්‍රව්‍ය තුළ ද අනෙක් අඩ පහළ ද්‍රව්‍ය තුළ ද ගිලී තිබෙන පරිදි තත්ත්වයක් ආධාරයෙන් බඳුනේ පහළට ගැට ගසා ඇත. තත්ත්වයේ ආනතිය වනුයේ,

- (1) $\frac{V}{2} (\rho_1 + \rho_2)g + mg$ (2) $\frac{V}{2} (\rho_1 + \rho_2)g - mg$
 (3) $\frac{V}{2} (\rho_1 + \rho_2) - mg$ (4) $\frac{V}{2} (\rho_1 - \rho_2) - mg$
 (5) $V (\rho_1 + \rho_2)g - mg$



13. 27°C දී යකඩ දණ්ඩක දිග 10 m වේ. පහත කුමන උෂ්ණත්වයකට පත් කළ විට එහි දිග 1.1 mm කින් අඩු වේද? (යකඩ වල රේඛීය ප්‍රසාරණතාව $1.1 \times 10^{-5}\text{ K}^{-1}$)

- (1) 0°C (2) 10°C (3) 17°C (4) 20°C (5) 23°C

14. නිව්ටන්ගේ සිසිලන නියමය පිළිබඳව කර ඇති පහත සඳහන් ප්‍රකාශ සලකන්න.

- (A) රත් වූ වස්තුවකින් තාපය හානි වීමේ සීඝ්‍රතාවය එම වස්තුවේ උෂ්ණත්වයට අනුලෝමව සමානුපාතික වේ.
 (B) නියමය වලංගු වන්නේ වස්තුවෙන් තාපය, කෘත සංගතනය යටතේ හානිවන විට පමණි.
 (C) වස්තුවෙන් තාපය හානිවීමේ සීඝ්‍රතාවය එහි පෘෂ්ඨික ස්වභාවය මත රඳා පවතී.

මින් නිවැරදි වන්නේ,

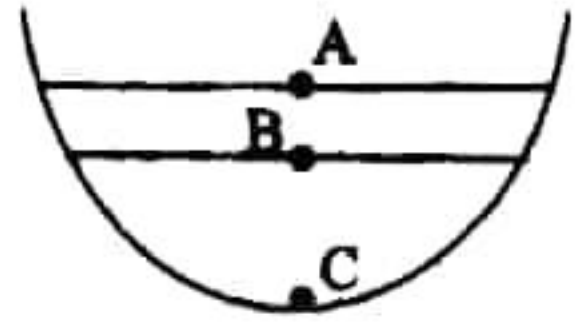
- (1) A පමණි (2) B පමණි (3) C පමණි (4) A හා C පමණි (5) A හා B පමණි

15. බර $15,000\text{ N}$ වන උත්තෝලකයක්, දැරිය හැකි උපරිම ආනතිය $19,500\text{ N}$ වන කේබලයකට සම්බන්ධ කර ඇත. උත්තෝලකයට ඉහළට හා පහළට යා හැකි උපරිම ත්වරණය පිළිවෙලින්,

- (1) $10, (-10)$ (2) $(-3), 10$ (3) $3, (-3)$ (4) $3, 13$ (5) $0, (-3)$

16. ශීත කාලගුණික තත්ත්වයන්හිදී පොකුණක අයිස් හැදෙමින් පවතින අවස්ථාවේ දී රූප සටහනේ පෙන්වා ඇති A, B සහ C ලක්ෂ්‍යවල සිසිලන හැකි උෂ්ණත්වය වනුයේ පිළිවෙලින්,

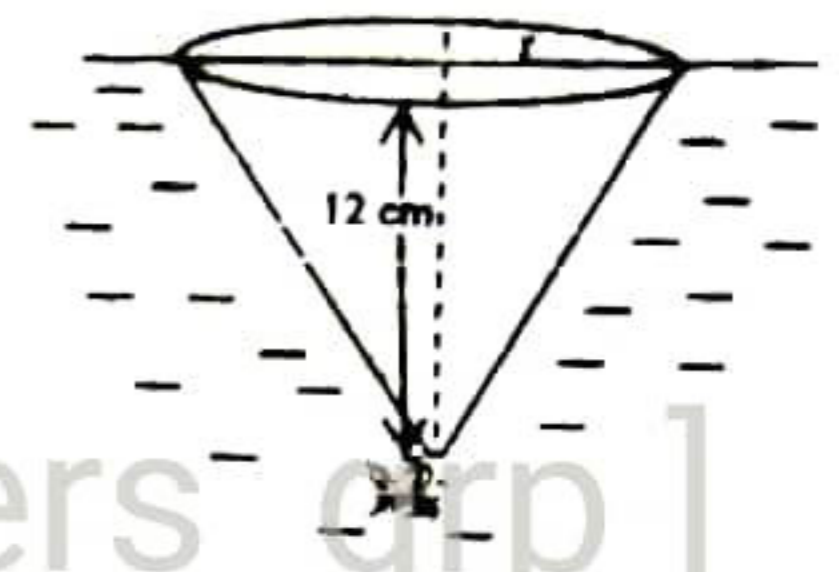
- (1) $-5^\circ\text{C}, 0^\circ\text{C}, 0^\circ\text{C}$ (2) $-5^\circ\text{C}, 0^\circ\text{C}, 4^\circ\text{C}$
 (3) $5^\circ\text{C}, 0^\circ\text{C}, 4^\circ\text{C}$ (4) $-5^\circ\text{C}, 4^\circ\text{C}, 4^\circ\text{C}$
 (5) $-5^\circ\text{C}, 4^\circ\text{C}, 0^\circ\text{C}$



17. හැඟුල්ල දැක්වෙන්නේ එල්වා ඇති ක්ෂණිකය m වූ අංශුවක් f සංඛ්‍යාතය ඇතිව සිරස් දෝලනය සිදු කරයි. එම දැක්වීම 4 m ක්ෂණිකය ඇති අංශුවක් එල්වා ඇතිව එය ඇති කරන සිරස් දෝලන වල සංඛ්‍යාතය වන්නේ,
 (1) $4f$ (2) $2f$ (3) f (4) $\frac{f}{2}$ (5) $\frac{f}{4}$

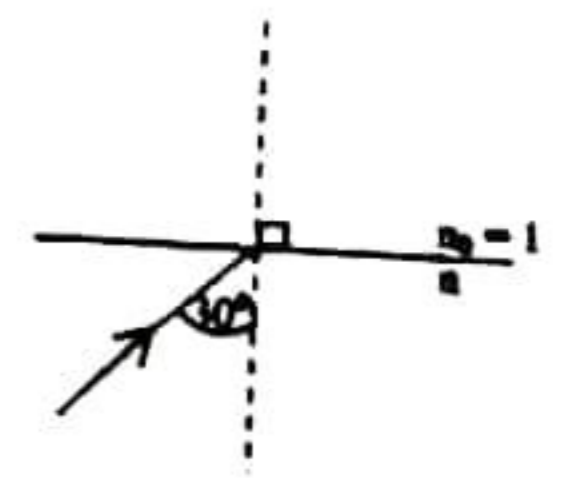
18. 80 dB සීග්‍රතාවයට ඇති ගුවන් විදුලි යන්ත්‍රයක් හා 70 dB සීග්‍රතාවයට ඇති ගුවන් විදුලි යන්ත්‍රයක් එකවර ක්‍රියාත්මක කළ විට ඇසෙන ගබඩුයේ සීග්‍රතාවය කොපමණ. ($\log_{10} 11 = 1.0414$)
 (1) 74.414dB (2) 80.414dB (3) 81.414dB (4) 84.14dB (5) 150dB

19. ආවේණික ජල පෘෂ්ඨයේ සිට 12 cm හැඳුරින් පිහිනන විට මතුපිට වාතයකට ප්‍රදේශයක් දිස්වේ. ජලයේ වර්තනාංකය $\frac{4}{3}$ ක් නම් ආවේණික දිස්වන වාතයේ අරය වන්නේ,
 (1) $12 \times 3 \times \sqrt{5}$ (2) $12 \times 3 \times \sqrt{7}$ (3) $\frac{12 \times 3}{\sqrt{7}}$
 (4) $4 \times \sqrt{5}$ (5) $4 \times \sqrt{7}$

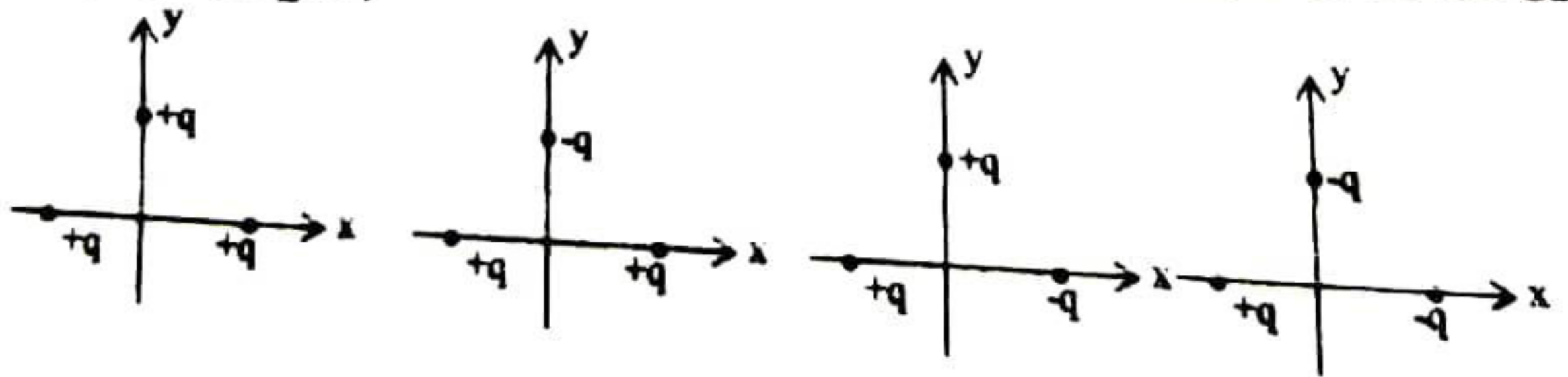


20. ආධ්‍යාත සිට වාතයට ගමන් ගන්නා ආලෝක කිරණයක් පෘෂ්ඨය මත 30° ක කෝණයකින් පතනය වේ. මෙම ආධ්‍යාත තුල ආලෝකය 30cm ක දුරක් 2 ns කාලයක් තුල දී ගමන් කරයි. වික්ෂේපයක් තුල ආලෝකයේ වේගය $3 \times 10^8 \text{ ms}^{-1}$ වේ. පහත කවරක් සත්‍ය වේ ද ?

- (1) ආලෝක කිරණය මුළුමනින්ම වාතය තුළට ඇතුළු වේ.
- (2) ආලෝක කිරණය ආංශික පරාවර්තනයට හා ආංශික වර්තනයට ලක්වේ.
- (3) ආලෝක කිරණය පූර්ණ අන්‍යන්තර පරාවර්තනයට ලක් වේ.
- (4) ආලෝක කිරණය පොදු අතුරු මුහුණත මගින් ගමන් කරයි.
- (5) ආලෝක කිරණය අපගමනයට ලක් නොවේ.



21. රූපයේ 1, 2, 3 හා 4 කොටස් වල දක්වා ඇති පරිදි දක්වා ඇති පරිදි x අක්ෂය හා y අක්ෂය මත මූල ලක්ෂ්‍යයට සම දුරින් ආරෝහණ 3 ක් බැහිත් තබා ඇත. එම ආරෝහණ භේදයෙන් පිළිවෙලින් එක් එක් අවස්ථාවේ දී මූල ලක්ෂ්‍යය මත ඇතිවන ගම්ප්‍රස්ථයේ විද්‍යුත් ක්ෂේත්‍ර සීග්‍රතාවයන් හි විශාලත්ව E_1, E_2, E_3 හා E_4 කම් එවා පිහිටන නිවැරදි පිළිවෙල වන්නේ,

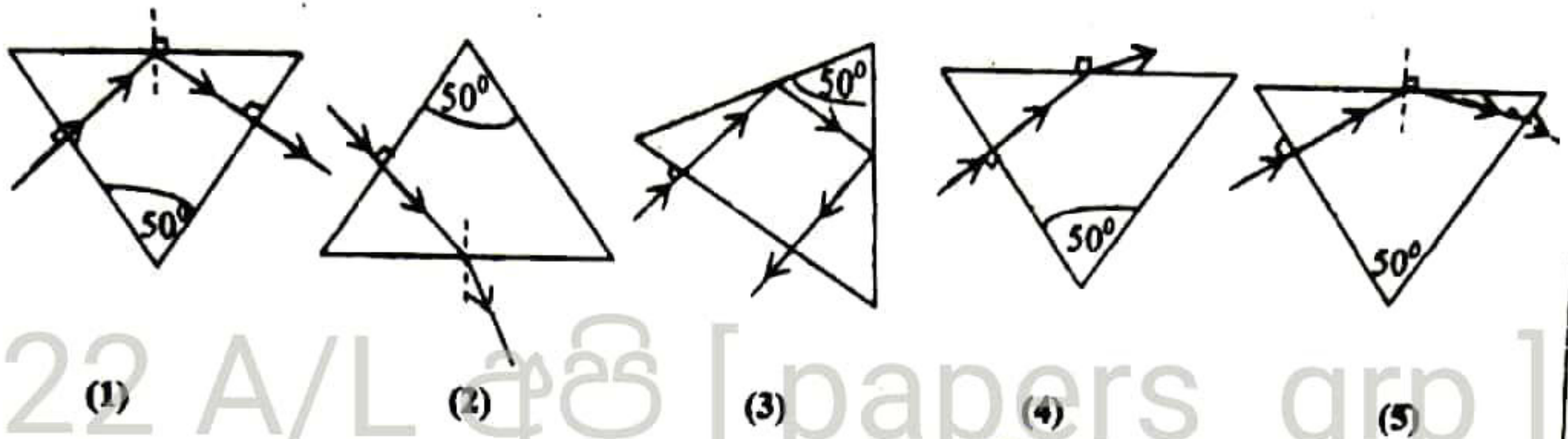


- (1) $E_1 < E_2 < E_3 < E_4$ (2) $E_1 > E_2 > E_3 > E_4$ (3) $E_1 = E_2 < E_3 = E_4$
- (4) $E_1 = E_3 < E_2 = E_4$ (5) $E_1 = E_2 = E_3 = E_4$

22. වන්දුයාගේ ස්කන්ධය M ද එහි පෘෂ්ඨයේ සිට h උසක දී ගුරුත්ව ත්වරණය g ද වේ. වන්දුයාගේ අරය වනුයේ,

- (1) $\sqrt{\frac{GM + h^2}{g}}$ (2) $\sqrt{\frac{GM - h^2}{g}}$ (3) $\sqrt{\frac{GM}{g}} - h$ (4) $\sqrt{\frac{GM}{g}} + h$ (5) $\sqrt{\frac{GM}{g}} - h^2$

23. ප්‍රිස්ම කෝණය 50° ක් වන සමද්‍රව්‍ය විදුරු ප්‍රිස්මයක පහතය වන ආලෝක කිරණයේ ගමන් මාර්ගය වඩාත්ම හොඳින් නිරූපනය වන්නේ,



24. කාමර උෂ්ණත්වය $30^\circ C$ ක් වන පරිසරයක සංවහනයෙන් සිසිල් වන උණුසුම් වස්තුවක උෂ්ණත්වය $61^\circ C$ සිට $59^\circ C$ දක්වා අඩු වීමට මිනිත්තු 4 ක් ගත විය. එහි උෂ්ණත්වය $51^\circ C$ සිට $49^\circ C$ දක්වා අඩු වීමට ගතවන කාලය වන්නේ කවර,

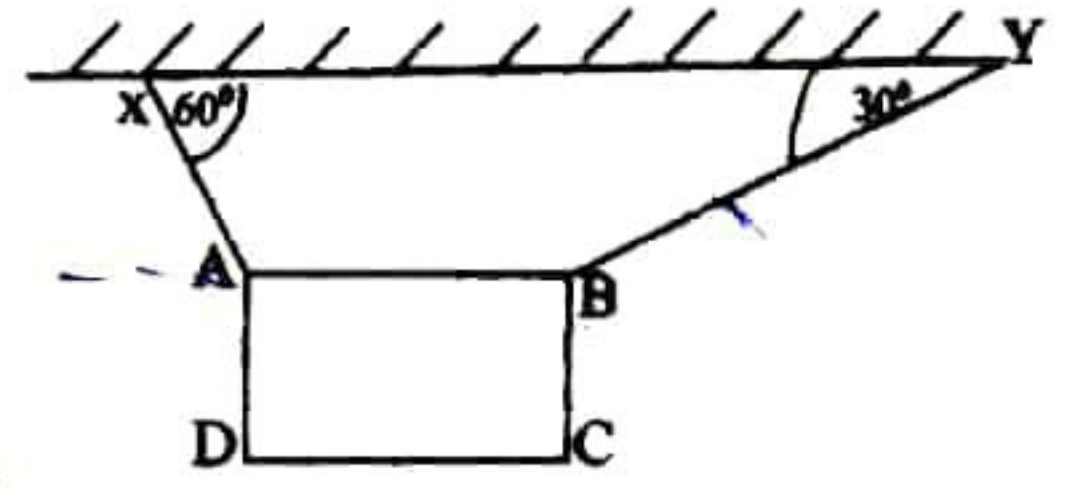
- (1) 40 (2) 60 (3) 80 (4) 160 (5) 240

25. තාභිය දුර 10cm ක් වන අවතල කාචයක් මතට පහිත වන සමාන්තර ආලෝක කිරණ එය සමඟ ඒකාස්මික 10 cm ක් දුරින් තබා ඇති උත්තල කාචයක් තුළින් සමාන්තරව නික්මේ. උත්තල කාචයක් තාභිය දුර වන්නේ,

- (1) 10 cm (2) 15 cm (3) 20 cm (4) 25 cm (5) 30 cm

26. රූපයේ දැක්වෙනුයේ ABCD ආස්තරය XA හා YB නම් තන්තු දෙකකින් එල්ලා AB පාදය මීරස් වන ලෙස සමතුලිතවත් තබා ඇති ආකාරය වේ. පසු අවස්ථාවක YB තන්තු කැඩී යයි නම් අවසානයේ AB පාදය යටි සිරස සමඟ සාදන කෝණය වනුයේ,

- (1) 15° (2) 20° (3) 45°
(4) 60° (5) 75°



27. එක්තරා දිනකදී දී වාතයේ නිරපේක්ෂ ආර්ද්‍රතාවය $30 \times 10^{-3} \text{ kg m}^{-3}$ බවද සාපේක්ෂ ආර්ද්‍රතාවය 80% බවද සොයාගන්නා ලදී. 4 m^3 වන වාත පරිමාවක් සංතෘප්ත කිරීම සඳහා සමාන උෂ්ණත්වයක දී එම පරිමාවට එකතු කළ යුතු ජල වාෂ්ප ස්කන්ධය වන්නේ,

- (1) $20 \times 10^{-3} \text{ kg}_m$ (2) $30 \times 10^{-3} \text{ kg}$ (3) $40 \times 10^{-3} \text{ kg}$ (4) $66 \times 10^{-3} \text{ kg}$ (5) $150 \times 10^{-3} \text{ kg}$

28. උෂ්ණත්වය ඉහළ යන විට රසදිය විදුරු උෂ්ණත්වමානයක රසදිය කඳ ඉහළ නගී. මීට වඩාත් උචිත හේතුව වන්නේ,

- (1) රසදිය හොඳ තාප සන්නායකයක් වීම.
(2) විදුරු දුර්වල තාප සන්නායකයක් වීම.
(3) රත්කළ විට විදුරු ප්‍රසාරණය වීම.
(4) විදුරු වල ප්‍රසාරණය රසදියවල ප්‍රසාරණයට වඩා සැලකිය යුතු ලෙස අඩු වීම.
(5) උෂ්ණත්වය වැඩි වීමත් සමඟ රසදිය ප්‍රසාරණය ඒකාකාර වීම.

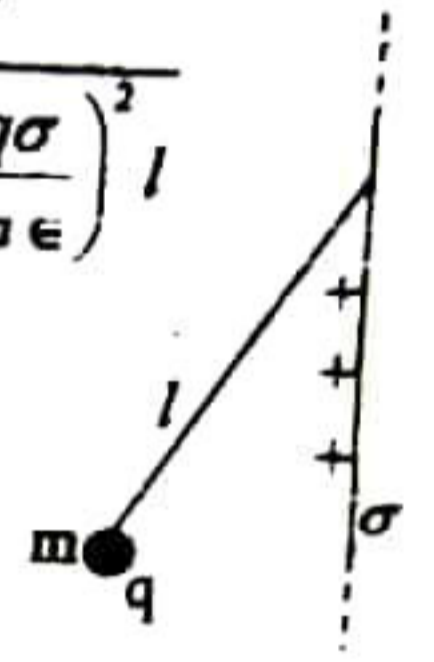


29. A දුම්රිය 30 ms^{-1} ක ප්‍රවේගයෙන් ගමන් කරයි. A හි රියදුරු එම මාර්ගයේ 15 ms^{-1} ක ප්‍රවේගයෙන් එම දිශාවටම ගත කරමින් දුම්රියක් දකී. එවිටම ඔහු සිටින යෙදීමෙන් දුම්රිය 4 ms^{-2} ක මන්දනයක පවත්වා ගත්තේය. දුම්රිය දෙක නොගැටීමට නම් A හි රියදුරු දුම්රිය 2 දකින විට එවන අතර නිසිය යුතු අවම දුර විය යුත්තේ,

- (1) 28.1 m (2) 37.5 m (3) 40.0 m (4) 47.5 m (5) 50 m

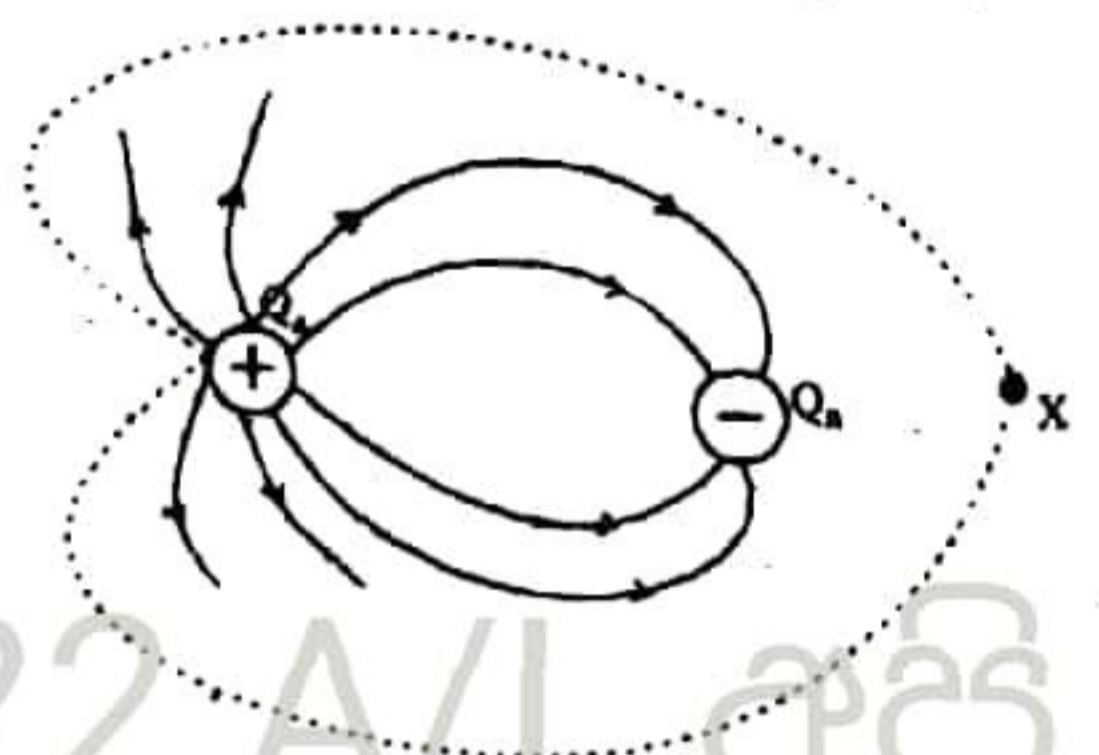
30. රූපයේ දක්වා ඇති ආකාරයේ අපරිමිත විකාල සන්නායක සහයුවේ එක් පැත්තක් σ ආරෝපණ ඝනත්වයෙන් යුතුව ආරෝපණය කර ඇති අතර දිග l වූ පරිවාරක තන්තුවකින් ස්කන්ධය m හා ආරෝපණය q වන කුඩා ගෝලයක් එල්ලා ඇත. ගෝලය සම්පූර්ණ පිහිටීමේ පවතින විට සුළු විස්ථාපනයක් යෙදවීමෙන් එය සරල අක්‍රමවර්තී දෝලන ඇති කරයි නම් එහි අවර්ත කාලය වන්නේ,

- (1) $T = 2\pi \sqrt{\frac{l}{g}}$ (2) $T = 2\pi \sqrt{\frac{l}{g + \frac{q\sigma}{m\epsilon}}}$ (3) $T = 2\pi \sqrt{\frac{l}{g^2 + \left(\frac{q\sigma}{m\epsilon}\right)^2}}$
- (4) $T = 2\pi \sqrt{\frac{l}{\left[g^2 + \left(\frac{q\sigma}{m\epsilon}\right)^2\right]^{\frac{1}{2}}}}$ (5) $T = 2\pi \sqrt{\frac{l}{\left[g^2 - \left(\frac{q\sigma}{m\epsilon}\right)^2\right]^{\frac{1}{2}}}}$



31. එකිනෙකට 4 cm ක දුරින් පිහිටි $Q_1 = +2 \mu\text{C}$ වූ ආරෝපණ 2 ක් අසල බල මධ්‍ය වනාන්තය පහත රූපයේ දක්වා ඇත. $-Q_2$ ආරෝපණයේ සිට x උදාහිත ලක්ෂ්‍යයට වූ දුර වන්නේ,

- (1) $(\sqrt{2}-1) \text{ cm}$ (2) $4(\sqrt{2}-1) \text{ cm}$
- (3) $2(\sqrt{2}-1) \text{ cm}$ (4) $\frac{4}{(\sqrt{2}-1)} \text{ cm}$
- (5) $\frac{(\sqrt{2}-1)}{2} \text{ cm}$

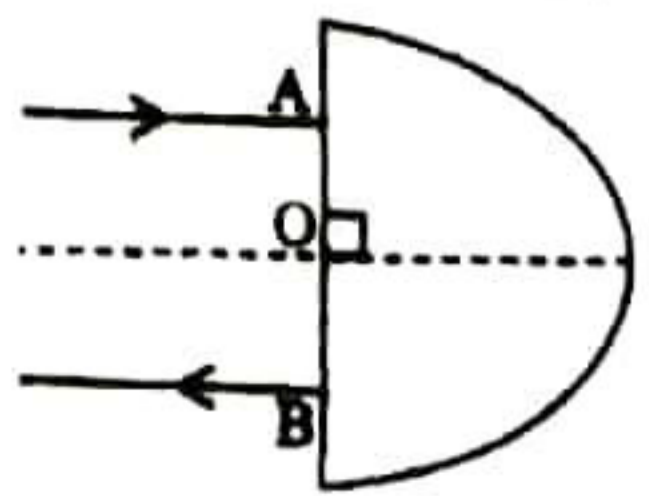


32. උෂ්ණත්වය 40°C වූ ජලය 900g සමඟ උෂ්ණත්වය 0°C වූ අයිස් 100g ක් මිශ්‍ර කරන ලදී. එවිට පද්ධතියේ අවසාන උෂ්ණත්වය 10°C ක් විය. අයිස් වල විලයනයේ විශිෂ්ට ඉන්ධන ආපය $3.3 \times 10^5 \text{ J kg}^{-1}$ ක් හා ජලයේ විශිෂ්ට ආප ධාරිතාව $4200 \text{ J kg}^{-1} \text{ C}^{-1}$ ක් නම් පරිසරයට හානි වූ ආප ප්‍රමාණය ආසන්න වශයෙන් වන්නේ,

- (1) $1358 \times 10^2 \text{ J}$ (2) $762 \times 10^2 \text{ J}$ (3) $370 \times 10^2 \text{ J}$ (4) $360 \times 10^2 \text{ J}$ (5) $333 \times 10^2 \text{ J}$

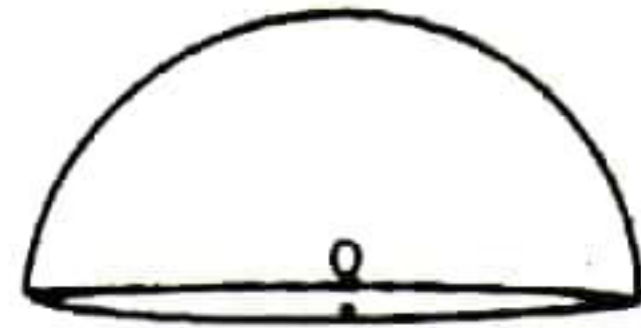
33. අරය r අර්ධ වූ වෘත්තාකාර හැඩැති විදුරු කුට්ටියක් මතට ලම්භ ලෙස A හිදී ආලෝක කිරණයක් පතිත වන අතර වර්තනයෙන් පසු එය B හිදී විදුරු කුට්ටියට ලම්බකව නිර්ගත වේ. විදුරු වාන අතුරු මුහුණත මත දී අවධි කෝණය C නම් AO හඳුනා ගන්නා අවම දුර වන්නේ,

- (1) $\frac{r}{\sin C}$ (2) $r \sin C$ (3) $\frac{\sin C}{r}$
- (4) $r \sin^{-1}(C)$ (5) $\frac{r}{\sin^{-1}(C)}$



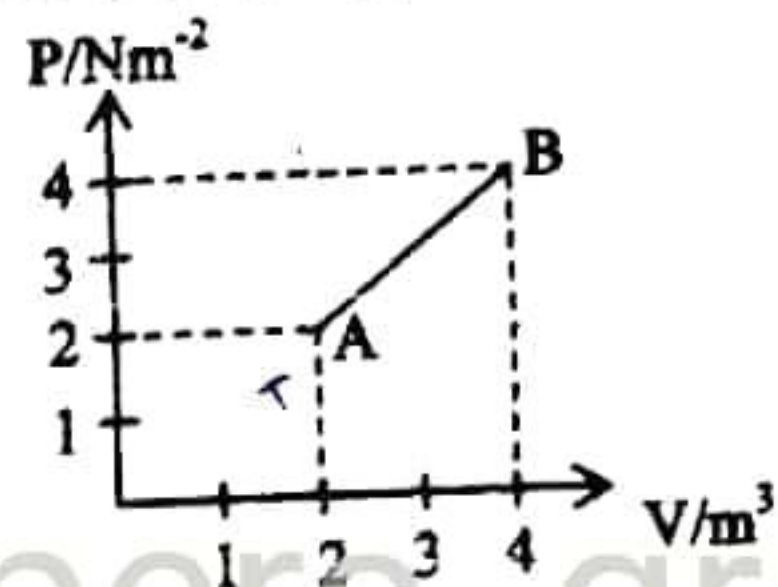
34. ගෝලාකාර සන්නායක කබොලක කේන්ද්‍රයේ Q ආරෝහණයක් තබා ඇත. රූපයේ පෙන්වා ඇති එහි අර්ධ ගෝලාකාර පෘෂ්ඨය හරහා ගමන් ගන්නා මුළු ආරෝපණ ප්‍රමාණය වන්නේ, (නිදහස් අවකාශයේ පාරවේදකතාවය ϵ_0)

- (1) $\frac{Q}{\epsilon_0}$ (2) $\frac{Q}{2\epsilon_0}$ (3) $\frac{Q}{8\epsilon_0}$
 (4) Q (5) $\frac{Q}{4\epsilon_0}$

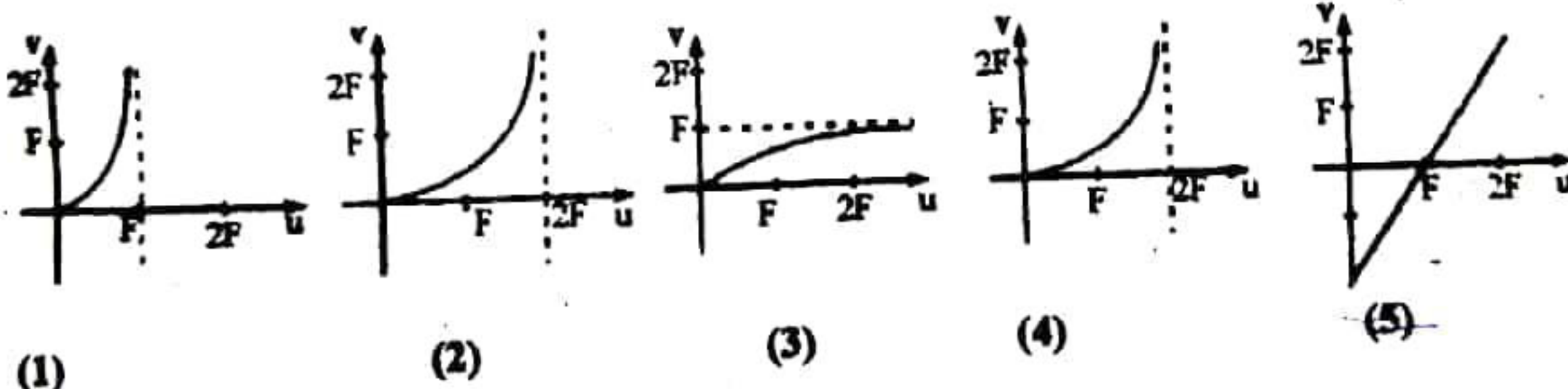


35. එක්තරා වායු ස්කන්ධයක පීඩනය P හා පරිමාව V අතර වචලනය පහත PV වක්‍රයේ AB කොටස මගින් මගින් නිරූපනය වේ. A හි දී වායුවේ නිරපේක්ෂ උෂ්ණත්වය T නම් B හි දී වායුවේ නිරපේක්ෂ උෂ්ණත්වය වන්නේ,

- (1) $8T$ (2) $4T$ (3) $2T$
 (4) T (5) $\frac{T}{2}$



36. අවකල කාවයක වස්තු දුර (u) සමඟ ප්‍රතිවිමිභ දුරෙහි (V) විචලන වඩාත් හොඳින් නිරූපනය වන්නේ,



- (1) (2) (3) (4) (5)

37. අරය R හා ස්කන්ධය M වූ ඒකාකාර වළල්ලකින් Δm ස්කන්ධය සහිත ඉහා කුඩා කොටස් දෙකක් X හා Y හි දී ඉවත්කර ඇත. එවිට ඉවත්වන කොටස නිසා වළල්ලේ කේන්ද්‍රයේ ඇතිවන ගුරුත්වාකර්ෂණ ක්ෂේත්‍ර නිඵලය වන්නේ,

(1) $\frac{\sqrt{2G\Delta m}}{R^2}$ (2) $\frac{\sqrt{2GM}}{R^2}$
 (3) $\frac{\sqrt{2G\Delta m}}{R^2}$ (4) $\frac{\sqrt{2GM}}{R^2}$
 (5) ඉහත වේ.

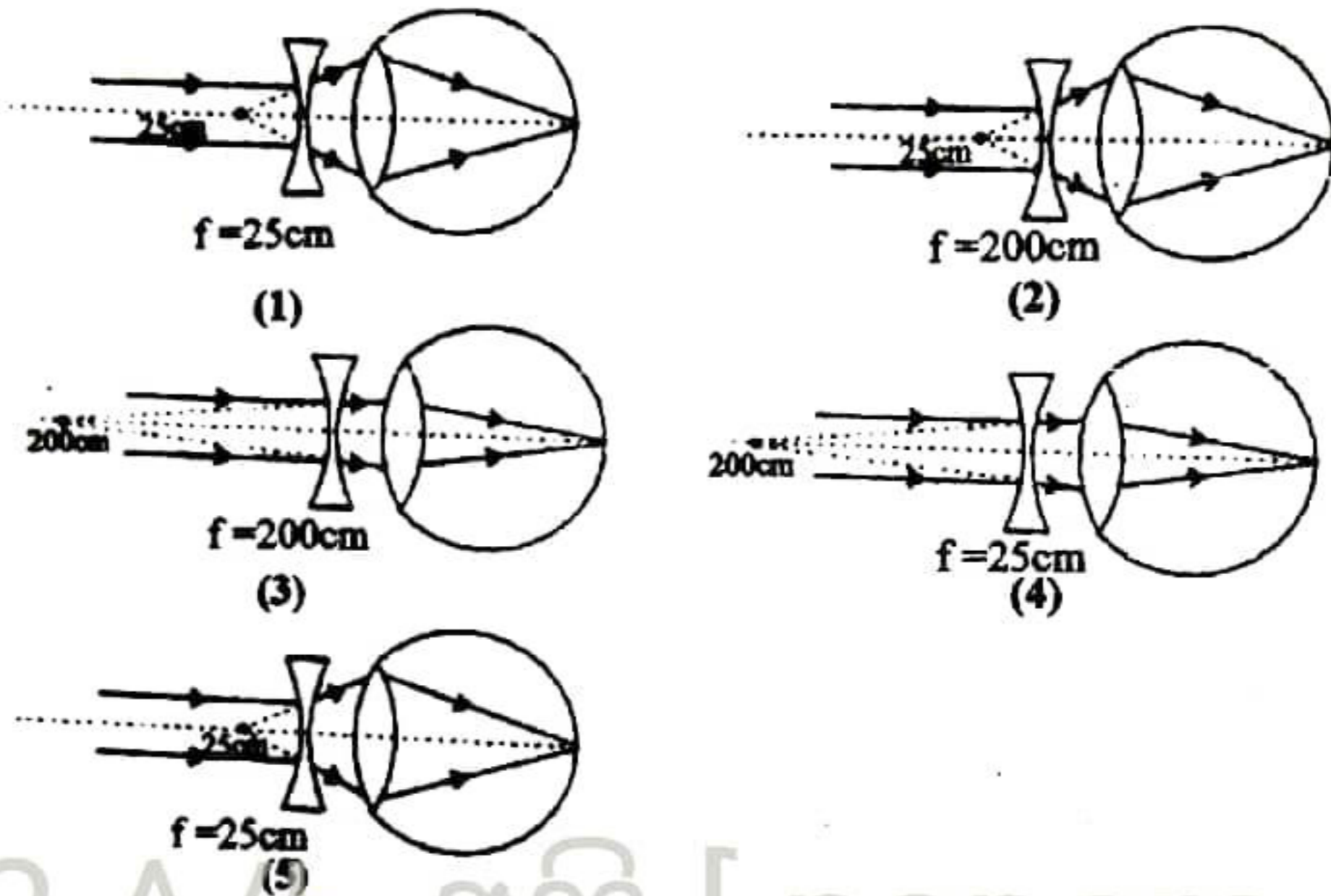
38. සංතෘප්ත වාෂ්ප ඝනත්වය උෂ්ණත්වය සමඟ විචලනය වන ආකාරය පහත වගුවේ දැක්වේ.

උෂ්ණත්වය($^{\circ}\text{C}$)	0	4	8	12	16	20	24	28
සංතෘප්ත වාෂ්ප ඝනත්වය (gm^{-3})	3.66	6.33	8.21	10.57	13.70	17.12	21.54	26.93

සංවෘත කාමරයක උෂ්ණත්වය 28°C වන අතර සාපේක්ෂ ආර්ද්‍රතාවය 80% කාමරයේ උෂ්ණත්වය ක්‍රමයෙන් අඩු කරන විට කාමරය තුළ තුෂාර හැඳෙන උෂ්ණත්වය වනුයේ,

- (1) 4°C (2) 8°C (3) 12°C (4) 16°C (5) 24°C

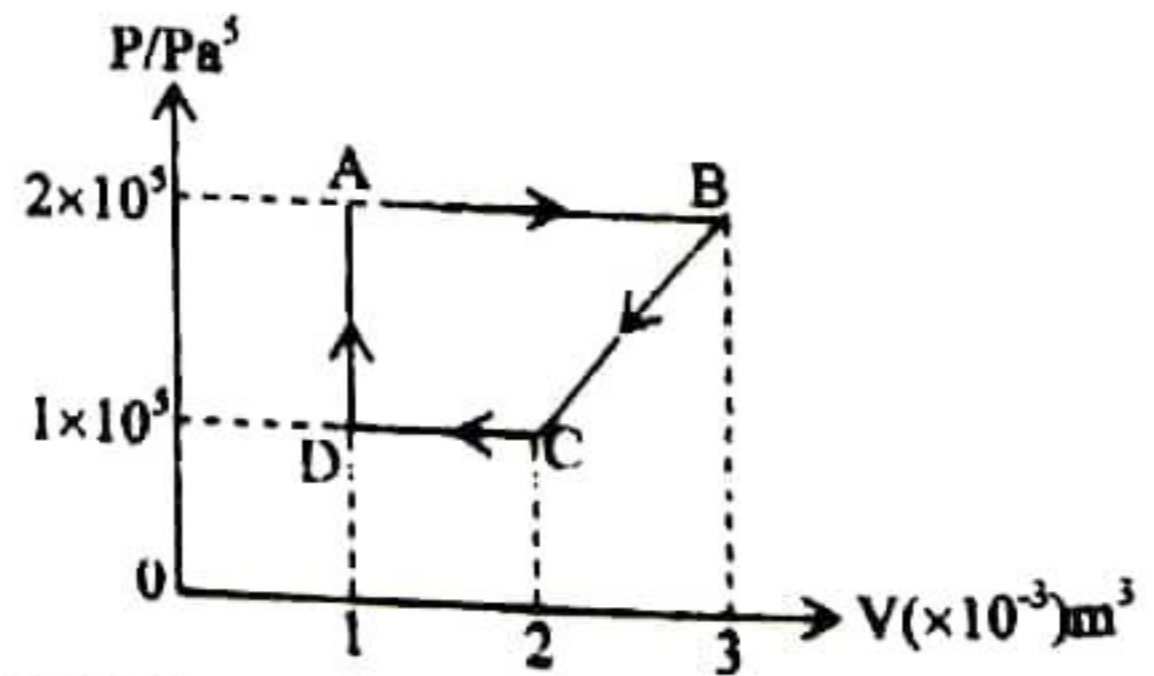
39. එක්තරා දෘඪ දේහයකින් පෙලෙන ආසන්න තැනැදිලි දෘඪ වරාසය 25cm සිට 2m දක්වා වේ. අනන්තයේ ඇති වස්තූන් තැනැදිලිව නිරීක්ෂණය කළහොත් ඔහු භාවිතා කළ කාචය ඇතුළත් නිවැරදි කිරණ සටහනක් කාචයේ නාභිය ඉරන් නිවැරදිව දක්වා ඇත්තේ,



22 A/L අපි [papers grp]

40. රූපයේ දැක්වෙන පරිදි වායුවක එක්වීය ක්‍රියාවලියක දී පීඩනය (P) හා පරිමාව (V) හි විචලනය රූපයේ දැක්වේ. එක්වීය ක්‍රියාවලියේ දී කළ කාර්යය වන්නේ,

- (1) +150J (2) -150J (3) +300J
 (4) -300J (5) +400J



41. වර්ණාවලිමානය භාවිතයෙන් ප්‍රිත්ම කෝණය තොයන පරීක්ෂණයකදී
 A. කමෝන්තරය කමෝන්තර ආලෝකය ලබා ගැනීම සඳහා සිටි මාරු කරයි.
 B. දුරේකය කමෝන්තර ආලෝකය නිකුත් කිරීම සඳහා සකසනු ලබයි.
 C. දුරේකය ඉමිෂන් වන කලට ප්‍රිත්මයේ සිරස් මුහුණත් ලම්භක වන ලෙස ප්‍රිත්ම මේතය ලෙවල් කරනු ලබයි.

ඉහත ප්‍රකාශ අතුරින්,

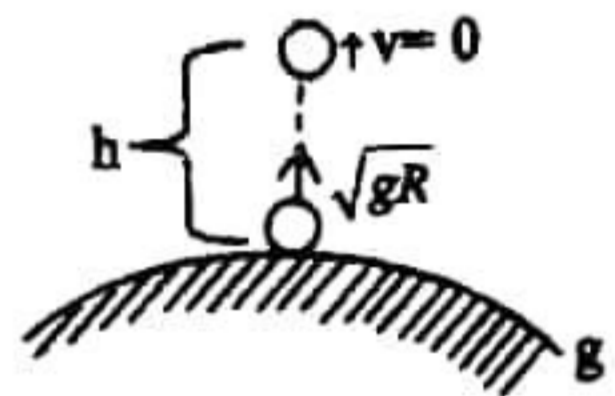
- (1) A පමණක් සත්‍ය වේ. (2) B පමණක් සත්‍ය වේ. (3) C පමණක් සත්‍ය වේ.
 (4) A හා B පමණක් සත්‍ය වේ. (5) A හා C පමණක් සත්‍ය වේ.

42. තත්පරයට සිංදු 3 බැගින් කරාමියකින් වැටෙන ජල සිංදු හේතුවෙන් එයට යටින් තබා ඇති විශාල වේගමත ඇති ජල පෘෂ්ඨයේ වෘත්තාකාර තරංග ඇති වේ. මෙම වේගමත සෙන්ටි මීටර කිපයක් පහත් කල විට හැදෙන තරංග වල

- (1) සංඛ්‍යාතය අඩු වේ. (2) තරංග ආයාමය වැඩි වේ. (3) විස්තාරය අඩු වේ.
 (4) විස්තාරය වැඩි වේ. (5) තරංග ආයාමය අඩු වේ.

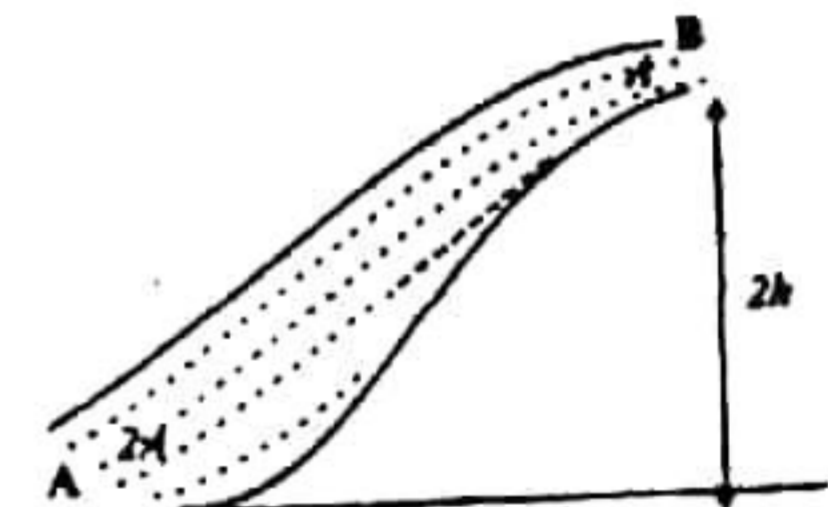
43. පෘථිවියේ අරය R ද පෘථිවි පෘෂ්ඨය මත දී ගුරුත්වාකර්ෂණ ක්ෂේත්‍ර කිප්පතාව g ද වන විට, වස්තුවක් පෘථිවි පෘෂ්ඨය මත සිට \sqrt{gR} වේගයෙන් පිරික්ව ඉහළට ප්‍රක්ෂේපනය කරනු ලැබේ. පෘථිවි පෘෂ්ඨය මත සිට වස්තුව ලග වන උපරිම උස (h) වනුයේ,

- (1) R (2) $\frac{R}{2}$ (3) $\frac{3R}{2}$
 (4) 2R (5) $\frac{5R}{4}$



44. දුක්ඛාචි නොවන අසම්පීඩ්‍ය තරලයක් අනාකූල ලෙස ප්‍රවාහ වන බටයක A හි දී තරස්තව වර්ගඵලය B හි දී මෙන් දෙගුණයකි. B, A ට 2h ඉහළින් ඇත. එහිදී (A හිදී) ද්‍රවයේ වේගය v වේ. A හිදී පීඩනය P ද ඝනත්වය ρ ද නම් පහත ප්‍රකාශ වලින් සත්‍ය වන්නේ, (A වේ)

- A. B හි මුළු පීඩනය $P + \frac{1}{2}\rho v^2$ වේ.
 B. B හි මුළු පීඩනය $P - \frac{3}{2}\rho v^2 - 2\rho gh$ වේ.
 C. A හි දී ඒකක පරිමාවක වාලක ශක්තිය B හි දී පරිමාවක වාලක ශක්තිය මෙන් දෙගුණයකි.

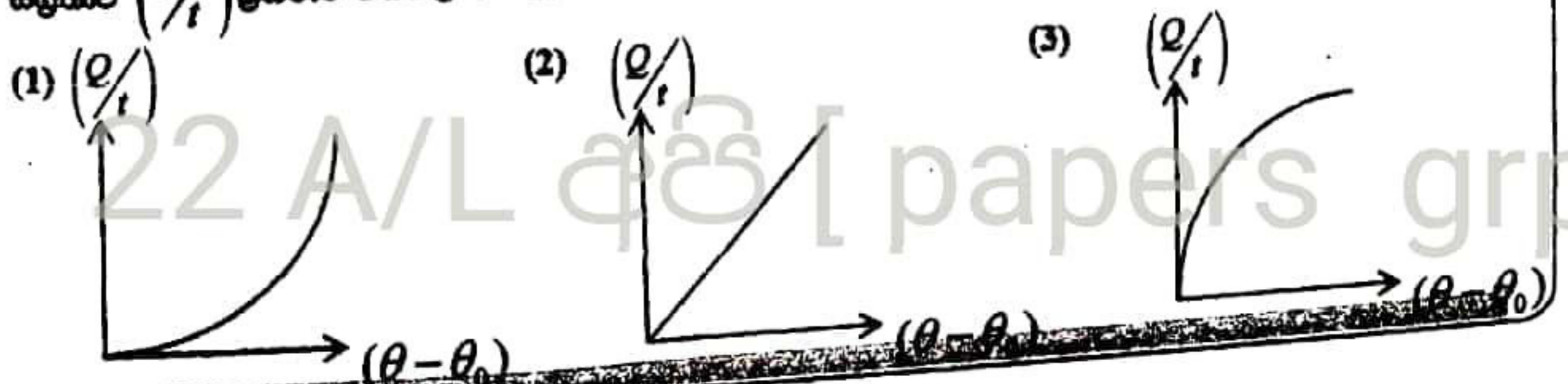


- (1) A පමණි (2) B පමණි (3) A හා B පමණි (4) B හා C පමණි (5) A හා C පමණි

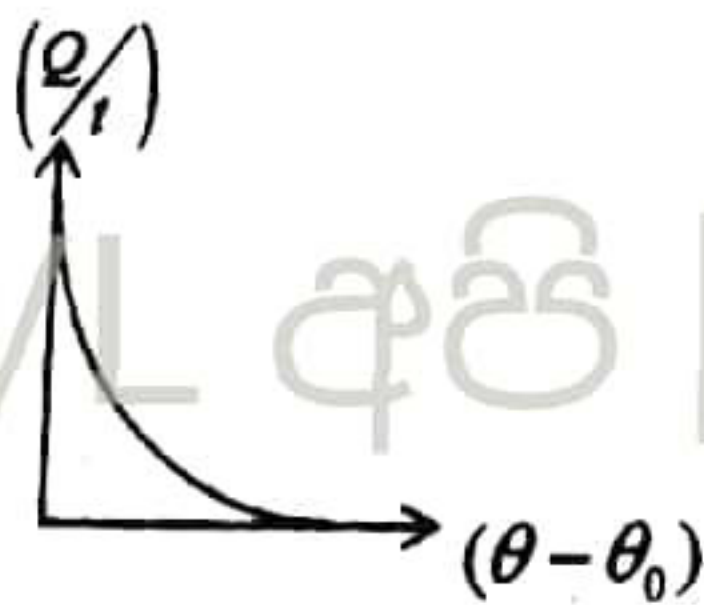
45. දී ඇති සරසුලක් සමඟ කෙළවරක් වැසූ නලයක් (P) පළමු උපරිතානයේ දී ද දෙකෙළවරම වැසූ නලයක් (Q) තුන්වන උපරිතානයේ දීද කම්පනය වේ. P නලයේ දී Q නලයේ දී ගට දරණ අනුපාතය වන්නේ,

- (1) 1:3 (2) 2:3 (3) 3:4 (4) 3:8 (5) 8:3

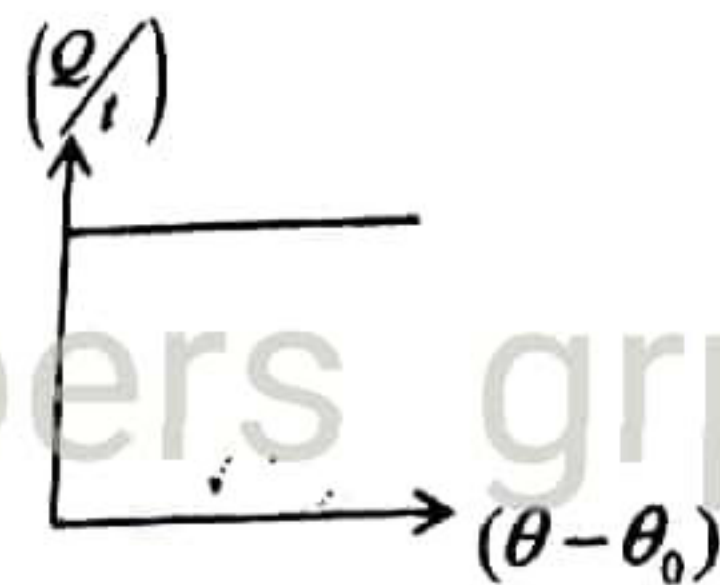
46. හිමිවත්තේ සිසිලන නියමය සත්‍යාපනය කරන පරීක්ෂණයකදී අමතර උෂ්ණත්වය $(\theta - \theta_0)$ එදිරියෙන් සිසිලන සීඝ්‍රතාව $(\frac{d\theta}{dt})$ ප්‍රස්ථාර ගතකල විට ලැබෙන නිවැරදි ප්‍රස්ථාරය වන්නේ,



(4)



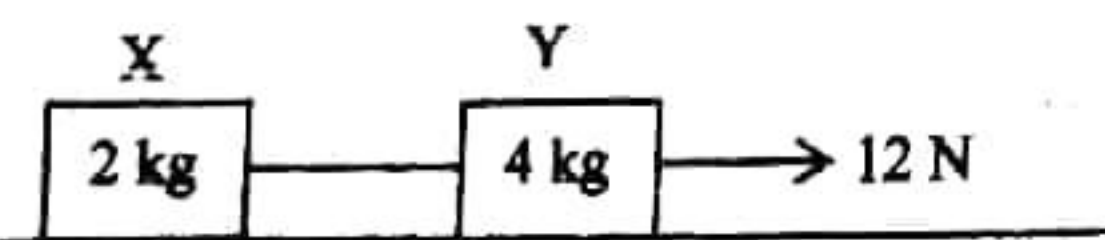
(5)



47. ඔරල අනුවර්ති චලිතයේ යෙදෙන එක්තරා අංශුවක විස්තාරය a හා සංඛ්‍යාතය $\frac{b}{2\pi}$ වේ. චලිතයේ කෙළවර වලදී අංශුවේ ත්වරණය වනුයේ,

- (1) a/b (2) a/b^2 (3) ab^2 (4) $2\pi a/b$ (5) $4\pi^2 a/b^2$

48.



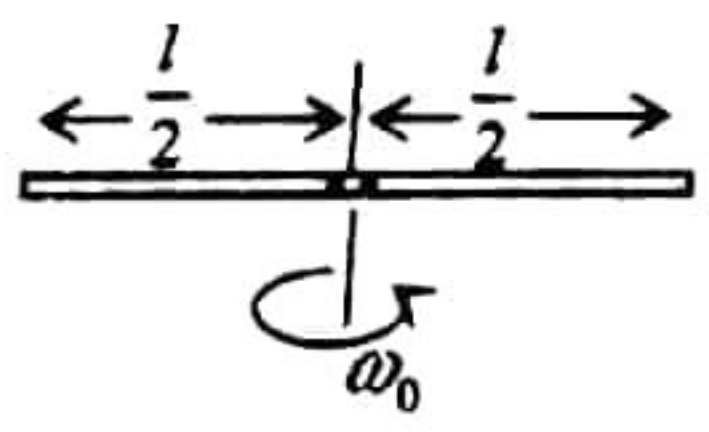
ඉහත රූපයේ දැක්වෙන පරිදි අප්‍රත්‍යාසං තන්තුවකින් එකට සම්බන්ධ කර ඇති X හා Y නම් ලී කුට්ටි සිරස් සීමක තබා Y ට 12 N ක ආතතියකින් යොදා ඇදගෙන යනු ලබයි. X හා Y මත පෘෂ්ඨය මගින් ක්‍රියා කරන සර්ඝණ බල පිළිවෙළින් 1N හා 2N නම් ලී කුට්ටි වල ත්වරණය වනුයේ,

- (1) 1.5 ms^{-2} (2) 1.67 ms^{-2} (3) 2.2 ms^{-2} (4) 2.5 ms^{-2} (5) 3.0 ms^{-2}

49.

ස්කන්ධය m වන සර්වසම් කුඩා ගෝලීය පබළු දෙකක් ස්කන්ධය M හා L වන සුමට ඒකාකාර දණ්ඩක් දිගේ නිදහසේ චලනය විය හැකි අයුරින් තබා ඇත. ආරම්භයේ දී මෙම පබළු දෙක දණ්ඩේ මධ්‍ය ලක්ෂ්‍යයේ ඇති. මෙම පද්ධතිය ω_0 කෝණික ප්‍රවේගයකින් දණ්ඩේ මධ්‍ය ලක්ෂ්‍යය හරහා දණ්ඩට ලම්භකව ඇති අක්ෂයක් වටා භ්‍රමණය වේ. වෙනත් බාහිර බල ක්‍රියා නොකරයි නම් මෙම පබළු දෙක දණ්ඩේ කෙළවර දෙකට ලඟාවන විට පද්ධතියේ කෝණික ප්‍රවේගය වන්නේ, (ද ඇති අක්ෂය වටා දණ්ඩේ අවස්ථිති ඝූර්ණය $\frac{ML^2}{12}$ වේ.)

- (1) $\frac{M\omega_0}{(M+3m)}$ (2) $\frac{M\omega_0}{(M+2m)}$ (3) $\frac{M\omega_0}{(M+6m)}$
 (4) $\frac{(M+6m)\omega_0}{M}$ (5) ω_0



50.

ස්කන්ධය 2 kg වන සර්වසම් පුරුක් 12 ක් සමන්විත දම්වැලක දිග 120 cm වන අතර එය රළ මේසයක් මත තොටකින් එල්ලෙමින් නිශ්චලව පවතී. දම්වැල හා මේසය අතර සර්ඝණ සංගුණකය 0.5 කි. මේසයෙන් පහළට එල්ලෙන දම්වැලෙහි උපරිම පුරුක් ගණන වන්නේ,

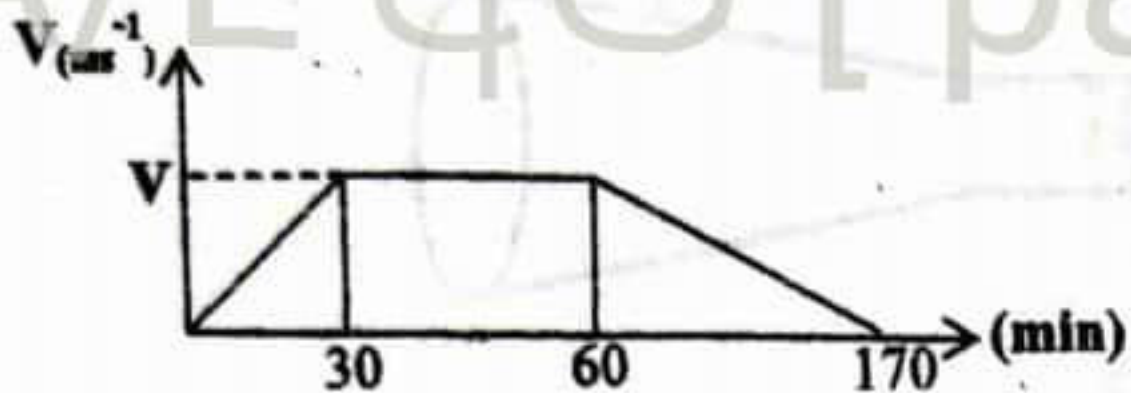
- (1) 3 (2) 4 (3) 5 (4) 6 (5) 7



සෞඛ්‍ය විද්‍යා අංශය
 ර/ සරසවයේ උසස් විද්‍යාලය.

B කොටස

05. (a) He පිර වූ වායු බැලුනයකට සම්බන්ධ කළ කැප්සියුලයක නැගුණු ගුවන් කරනම් කරුවෙකු පොළවේ සිට සිරස්ව ඉහළට උපරිම උසක් දක්වා ගමන් කිරීමට අදාළ ප්‍රවේග කාල ප්‍රස්ථාරය පහත දක්වා ඇත. පොළවේ සිට බැලුනය නැගී උපරිම උස 30 Km වේ.



ප්‍රස්ථාරය ඇසුරෙන්,

- (i) බැලුනය ලබාගන්න උපරිම ප්‍රවේගය සොයන්න.
- (ii) බැලුනය පොළව මගින් ඉහළට ගමන් කරන පළමු මිනිත්තු 30 ක කාලයේ දී ලක් වූ ත්වරණය සොයන්න.
- (iii) බැලුනය ලබා ගන්නා මන්දනය කොපමණ ද ?
- (iv) බැලුනයක දල සටහනක් ඇඳ එහි උපරිම ලක්ෂ්‍යයේ දී බැලුනය මත ක්‍රියාකරන බල ලකුණු කරන්න.
- (v) බැලුනයේ වලිනයට අදාළ විස්ථාපන කාල ප්‍රස්ථාරය අඳින්න.
- (vi) බැලුනය උපරිම උසෙහි දී (30Km) කරනම් කරු නිදහස් පිම්මක් පතිනු ලබයි. නිදහස් පිම්ම යනු ගුරුත්වය යටතේ නිදහසේ වලින වීම වන අතර කරනම්කරු බැලුනයෙන් නිශ්චලතාවයේ සිට පිම්ම ආරම්භ කළ බව සහ සිරස්ව වලින වන බව සලකන්න.
 (අ) පළමු 40 S තුළ ඔහුගේ ප්‍රවේගය කොපමණ ද ?
 (ආ) ඉහත ඔබ ලබාගත් ප්‍රවේගය ප්‍රයෝගිකව පැවතිය හැකිදැයි හේතු සහිතව පහදන්න.

- (b)
 - (i) බ'හුලී සම්කරණය වලංගුවන තත්ත්වයන් දෙකක් ලියන්න.
 - (ii) ක්‍රිකට් බෝලයක් පන්දු යවන්නාට අහිමිත පරිදි විකට්ටුවෙන් ඇතුළට හෝ පිටට දෝලනය කිරීමේ හැකියාව ලබාදෙයි. මෙය බ'හුල ප්‍රමේය ඇසුරින් පැහැදිලි කරන්න.

Handwritten calculations and diagrams:

$\frac{1}{2} \times 90 \times 60$

$\frac{1}{2} \times 30 \times 60 + 30 \times 60 + \frac{1}{2} \times 30 \times 110$

144

153

$33 \times 33 = 1089$

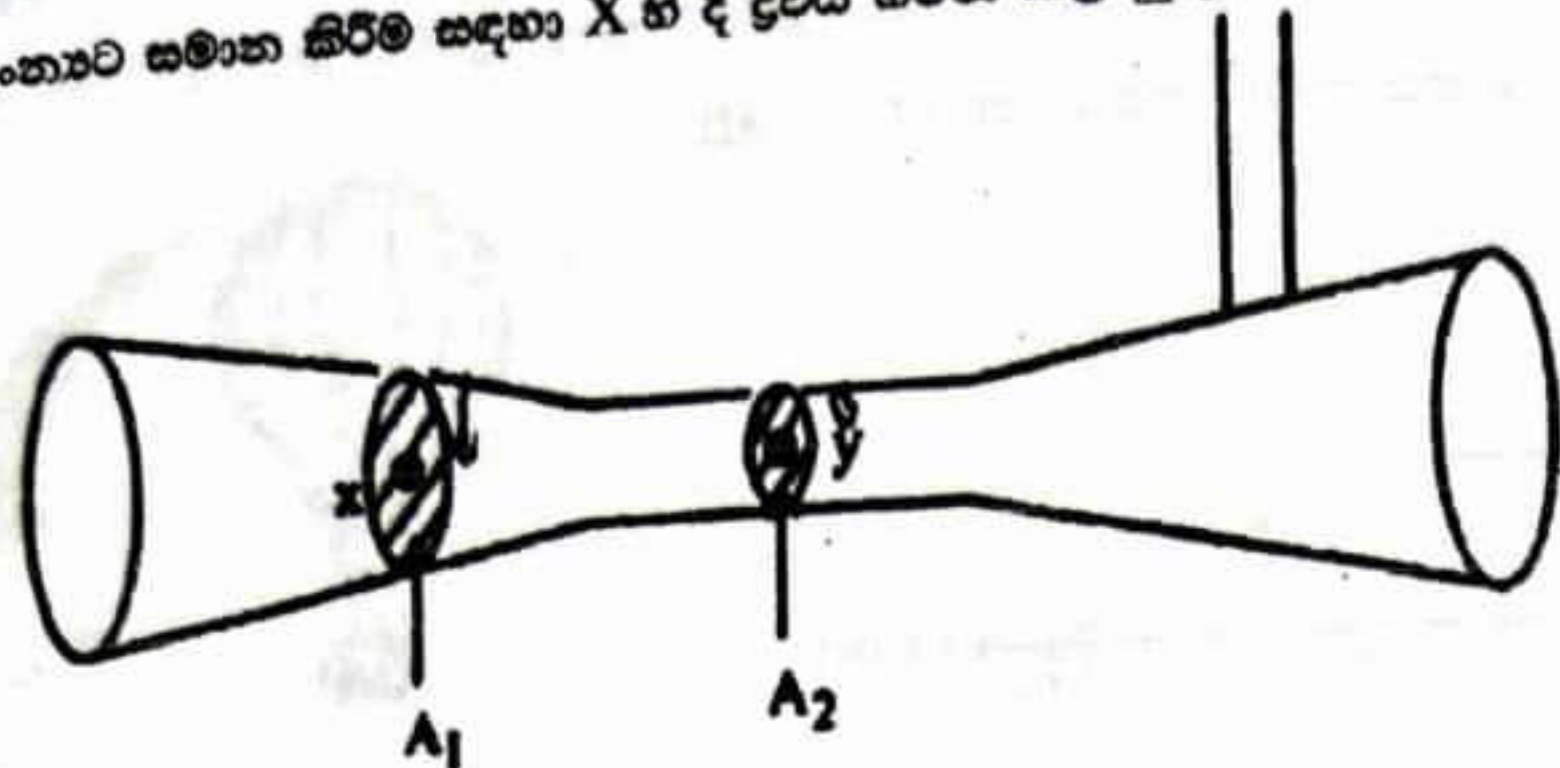
$1089 - 1000 = 89$

3

නික.
දැක්වී
සිට

- (4) ඇමයිනෝ අම්ලවල අංශ දාම අතර ඇතිවන
- (5) ඇමයිනෝ අම්ල

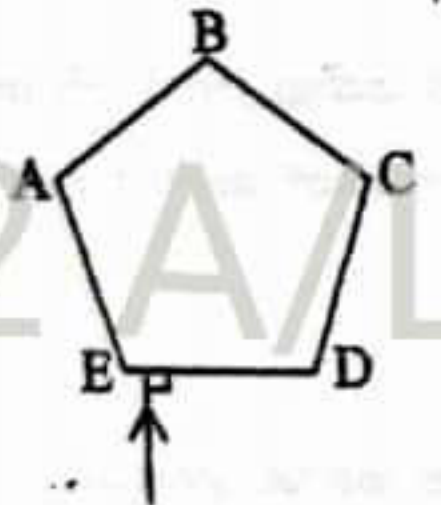
(iii) (a) රූපයේ පෙන්වා ඇති පරිදි වෙන්වූර් නලයක් හරහා ද්‍රවයක් ගලා යයි. X හි දී P පීඩනයකින් නලය තුළට ද්‍රවය ඇතුළු වේ. X හි හරස්කඩ වර්ගඵලය Y හි මෙන් 5 ගුණයකි. Y හි දී පීඩනය ඉහතට සමාන කිරීම සඳහා X හි දී ද්‍රවය ගමන් කල යුතු වේගය සඳහා ප්‍රකාශයක් ලබා ගන්න.



(b) x ස්ථානයේ පීඩනය 120 Pa නම් X හි දී තරලයේ පැවතියේ වේගය සොයන්න.
 ද්‍රවයේ ඝනත්වය = 1000 kg m^{-3}

06. මැණික් කර්මාන්තයේ දී මැණික් වර්ග සඳහා වර්තනාංකය වැඩි පාරදෘශ්‍ය මාධ්‍යය යොදා ගනී. මෙම ප්‍රකාශය පැහැදිලි කරන්න.

- (a) විදුරු සහ දියමන්ති වල වර්තනාංක පිළිවෙලින් 1.5 සහ 2.4 නම් වාතයට සාපේක්ෂව විදුරු සහ දියමන්ති වල අවධි කෝණ සහ විදුරු වලට සාපේක්ෂව දියමන්ති වල අවධි කෝණය සොයන්න.
- (b) පහත දක්වා ඇත්තේ ඒකාකාර ඝනකමින් යුත් වර්තනාංකය 1.5 ක් වන විදුරු වලින් තැනූ හරස්කඩ සවිධි පංචාස්‍රයක හැඩැති විදුරු කුට්ටියකි.

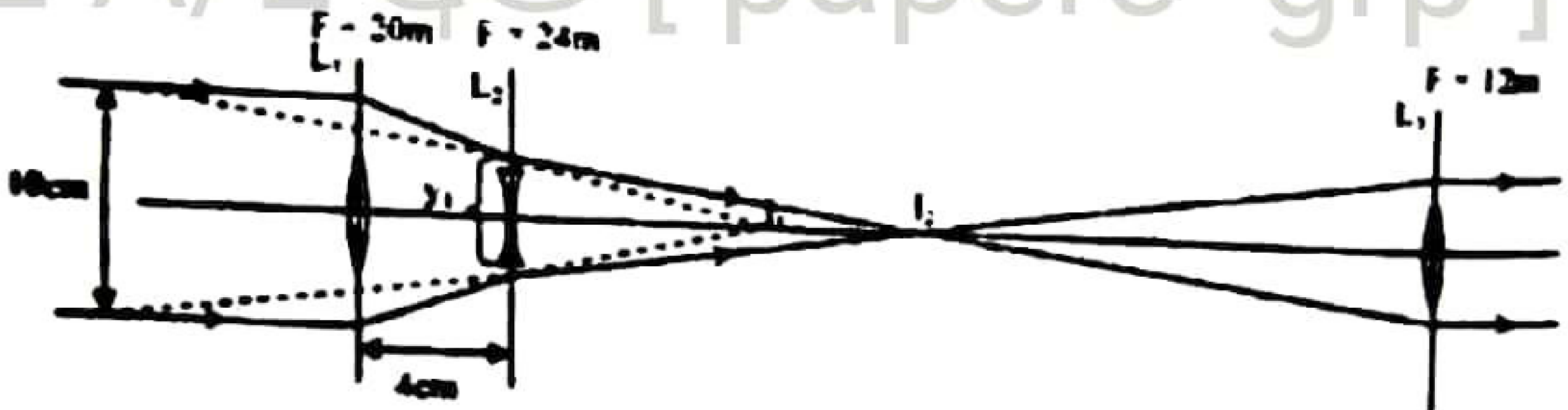


22 A/L අපි [papers grp]

- (i) ඒක වර්ණ ආලෝක කිරණයක් ED පෘෂ්ඨය මත රූපයේ පරිදි අභිලම්භව පතනය වේ නම්, එය AB පෘෂ්ඨය මත පතනය වන කෝණය සොයන්න.
- (ii) එම ආලෝක කිරණ AB පෘෂ්ඨයෙන් වාතයට නිර්ගමනය වේ ද ? ඔබේ පිළිතුර ගණනය කිරීමක් මගින් පහදන්න.
- (c) (i) එම විදුරු කුට්ටියට සමාන මාන සහිත වර්තනාංකය 2.4 ක් වන දියමන්ති කුට්ටියක් මත එම ආලෝක කිරණය ඉහත අග්‍රරීන්ම පතනය වේ නම් එය, AB පෘෂ්ඨයෙන් වාතයට නිර්ගමනය නොවීම ගණනය කිරීමක් මගින් පහදන්න.
- (ii) එම ආලෝක කිරණය AB පෘෂ්ඨයෙන් වාතයට නිර්ගමනය නොවන නිසා AB, BC, CD, DE, EA පෘෂ්ඨ මත එහි පතන කෝණ සොයන්න.
- (iii) එම ආලෝක කිරණය වාතයට නිර්ගමනය වේ ද ?

(d) DE පෘෂ්ඨය දිගේ පහතය වන එක වර්ෂ ආලෝක කිරණයක් AE පෘෂ්ඨය මත පහතය විමෙන් පසු වාතයට නිර්ගත වේ ද ? එමේ පිළිතුර විදුරු හහ දිගමනිකි සඳහා වෙන වෙනම ගණනය කිරීමක් මගින් පහදන්න.

07. (i) සාමාන්‍ය සිරු මාරුවේ ඇති දූරේක්ෂයක විශාලත බලය අර්ථ දක්වන්න.
 (ii) තත්ප්‍ර දූරේක්ෂයක අවනෙතේ නාභිය දුර f_0 ද, උපනෙතේ නාභිය දුර f_1 ද වේ. සාමාන්‍ය සිරු මාරුවේ දී විශාලත බලය M සඳහා ප්‍රකාශනයක් ලියන්න.
 (iii) කාච අතර පරතරය කුමක් ද ?
 (iv) අවනෙත වක්‍රව ලෙස සලකා උපනෙත විසින් අවනෙතෙහි ප්‍රතිබිම්බය තනන ලබන ස්ථානය ඇස හැකිමට සුදුසු ස්ථානයයි. සාමාන්‍ය සිරු මාරුවේ දී එම ලක්ෂණයට උපනෙතේ සිට දුර $F_0(1+1/M)$ බව පෙන්වන්න.
 (b) අවනෙතේ කාචය සඳහා කාච සංයුක්තය යොදාගෙන සාමාන්‍ය සිරු මාරුවේ තබා ඇති තත්ප්‍ර දූරේක්ෂයේ රූපයේ දැක්වේ. එයට ඇතුළුවන ආලෝක කදම්බයේ විෂ්කම්භය 10 cm වේ.



- (i) I_1 ප්‍රතිබිම්බයට අවතල කාචයේ සිට දුර සොයන්න.
 (ii) I_2 ප්‍රතිබිම්බයට අවතල කාචයේ සිට දුර සොයන්න.
 (iii) L_3 කාචය මගින් හැකිමට යෙදුන I_1 ප්‍රතිබිම්බය තාත්වික යථිකුරු හහ 2 cm උස නම්, L_2 ප්‍රතිබිම්බය එහි වක්‍රවට භාජකයේ යථිකුරු ද ? උඩුකුරු ද ? එහි උස සොයන්න.
 (iv) Y_1 උස සොයන්න.
 (v) අවනෙතේ කාච සංයුක්තයේ සඵල නාභිය දුර හා බලය සොයන්න.
 (vi) දූරේක්ෂයේ විශාලත බලය සොයන්න.
 (vii) තනි අවනෙතේ කාචයක් යොදා ගැනීමට වඩා අවනෙතේ කාච සංයුක්තයක් යොදා ගැනීමෙන් අත්වන වාසියක් සඳහන් කරන්න.
 (c) (i) උපනෙතේ කාචය කාච සංයුක්තය දෙකට 3 m දුරක් රැගෙන ආ විට නව කෝණික විශාලතය සොයන්න.
 (ii) අවනෙත ප්‍රතිබිම්බය සොයන්න.
 (d) (i) ඉහත (L) අවස්ථාවේ දී අවනෙත ප්‍රතිබිම්බය පැහැදිලිව දැක ගැනීම සඳහා සිසුවෙකුට තම ඇඟට 2 cm ඉදිරියෙන් නාභිය දුර 252 cm වූ උත්තල කාචයක් පැළඳීමට සිදුවිය. සිසුවා පෙළුන දෘෂ්ටි දෝෂය කුමක් ද ? චේතුව පැහැදිලි කරන්න.
 (ii) සිසුවාට ඉහත ඇඟ පිහිටි වක්‍ර පැහැදිලිව දැකගත හැකි වූහි නම්, ඔහුගේ විදුර ලක්ෂයට ඇඟේ සිට දුරවල් සොයන්න.

08. a. රේඛීය ප්‍රසාරණතාවය අර්ථ දක්වන්න.

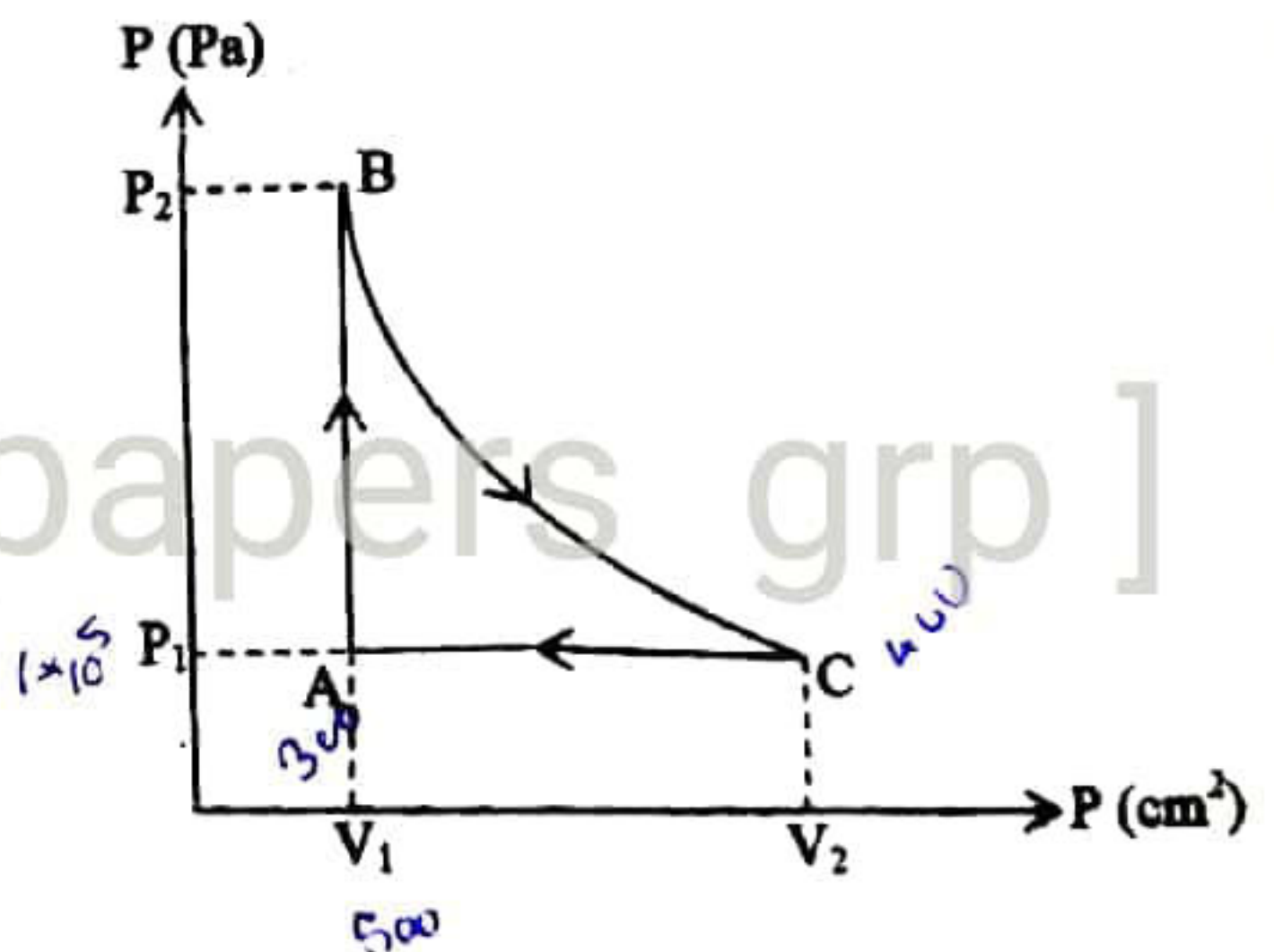

ඒකාකාර හරස්කඩ සහිත සිලින්ඩරාකාර බදුනක උස 30 cm වේ, හරස්කඩ වර්ගඵලය 20cm^2 එහි 20 cm උසකට පරිමා ප්‍රසාරණය $5 \times 10^{-5}\text{K}^{-1}$ වන ද්‍රව්‍යයක් දමා ඇත. ද්‍රව්‍යේ උෂ්ණත්වය 30°C වේ. උෂ්ණත්වය 50°C දක්වා වැඩිකල විට ද්‍රව්‍ය කඳේ උස කොපමණ වේ. බදුන සාදා ඇති ද්‍රව්‍යයේ රේඛීය ප්‍රසාරණතාවය $3 \times 10^{-5}\text{K}^{-1}$ වේ.

b. ඉහත බදුන තුළට විද්‍යුත් කුටීරයක් දමා ඉතිරි අවශායක සම්පූර්ණයෙන්ම පිරෙන තේ ඉහත ද්‍රව්‍ය දමා ඇත. උෂ්ණත්වය වැඩි කල ද ද්‍රව්‍ය උතුරා නොයයි නම් විද්‍යුත් කුටීරයේ පරිමාව කොපමණ වේ. විද්‍යුත් චල රේඛීය ප්‍රසාරණතාවය $2 \times 10^{-5}\text{K}^{-1}$ වේ.

c. කාපයෙහි විද්‍යාවේ පසුබු නියමය ප්‍රකාශ කරන්න.

පද්දතියක් මත 500 J කාර්යය ප්‍රමාණයක් කරන අතර එහි අභ්‍යන්තර ශක්තිය 200 J වලින් අඩු වේ නම් පද්දතියට සපයන ලද හෝ පද්දතියෙන් පිට වූ කාපය කොපමණ වේ.

පිස්ටනයක් මගින් සිරකර ඇති පරිපූර්ණ වායුවක් පහතින් දැක්වෙන පරිදි චක්‍රීය ක්‍රියාවලියකට භාජනය කරයි. BC සමෝෂණ ක්‍රියාවලියකි. A හා C හිදී උෂ්ණත්ව පිළිවෙලින් 300K හා 400K වේ. $P_1 = 1 \times 10^5\text{Pa}$ $V_1 = 500\text{cm}^3$



- (i) AB ක්‍රියාවලියේ දී ලද කාර්යය කොපමණ ද ?
- (ii) B හිදී පීඩනය P_2 කොපමණ වේ.
- (iii) C හිදී පරිමාව V_2 කොපමණ වේ.
- (iv) C - A ක්‍රියාවලියේ දී කරන ලද කාර්යය කොපමණ වේ.

09. a. නිව්ටන්ගේ ගුරුත්වාකර්ෂණ නියමය සඳහන් කරන්න.

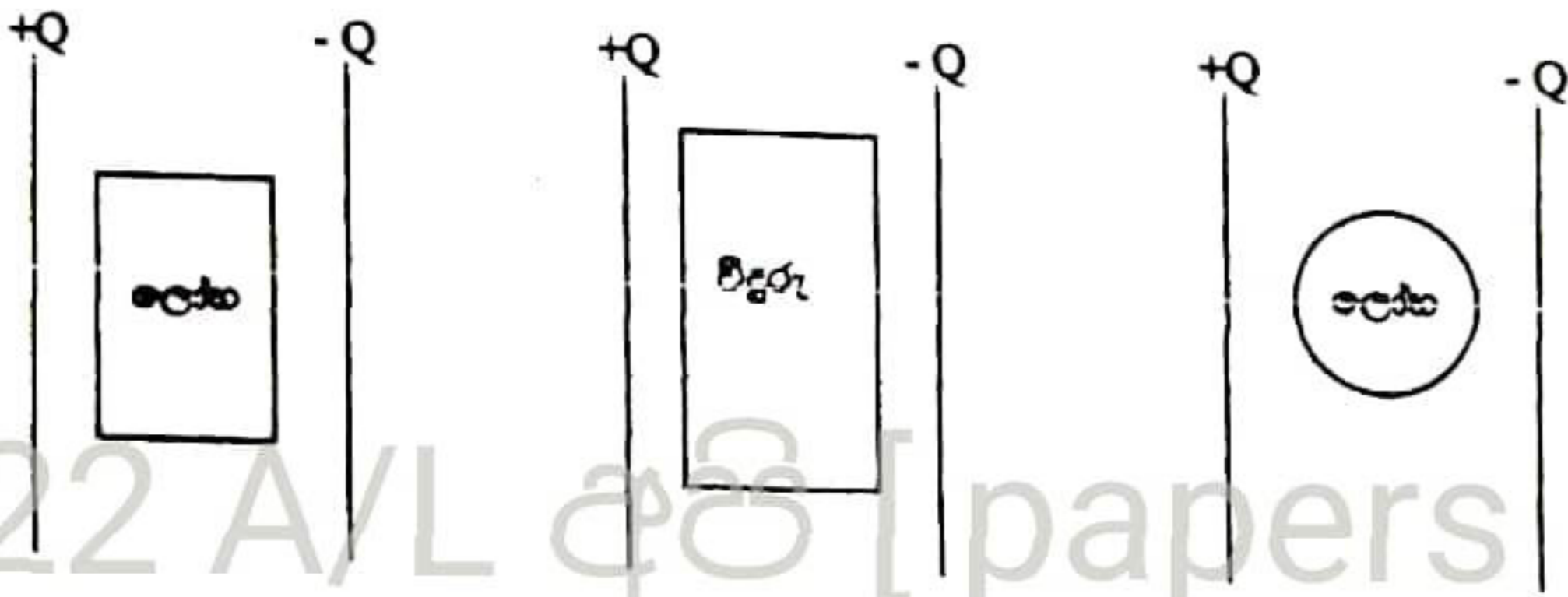
පෘථිවි පෘෂ්ඨය අසල ගුරුත්ව ක්ෂේත්‍ර කීවකොටය 10N/kg වන අතර පෘථිවියේ අරය $6.4 \times 10^6\text{m}$ වේ නම් පෘථිවියේ ස්කන්ධය ගණනය කරන්න. සර්වත්‍ර ගුරුත්වාකර්ෂණය නියතය $G = 6.67 \times 10^{-11}\text{Nm}^2\text{kg}^{-2}$ වේ. පෘථිවි පෘෂ්ඨයේ සිට මනිනු ලබන දුර සමඟ ගුරුත්ව ක්ෂේත්‍ර කීවකොටය විචලනය වන අයුරු ප්‍රස්තාර ගත කරන්න.

b. ස්කන්ධය 2000 kg වන වන්දිකාවක් ක්ෂණිකව නව ඇත්තේ දිනකට අව වතාවක් පෘථිවිය වටා වෘත්තාකාර කක්ෂයක ගමන්කරන පරිදිය. ($\pi = 3$ ලෙස ගලකන්න.)

- (i) වන්දිකාවට පෘථිවි පෘෂ්ඨයේ සිට ඇති උස ගණනය කරන්න.
- (ii) කක්ෂයේ පවතින වන්දිකාව හඳු නිවු ඝණ්ඨය ගණනය කරන්න.
- (iii) වන්දිකාව ක්ෂණිකව නිරීක්ෂණය කළ යුතු අවම කාර්යය ගණනය කරන්න.

c. පෘථිවිය වටා කක්ෂයක පවතින අභ්‍යාවකාශ මධ්‍යස්ථානයක සිටගෙන සිටින ගණන නැවියෙකුට දැනෙන තරමට බර කොයන්න. ගගන ගාමීයා යානයෙන් ඉවතට වැටුණේ නම් ඔහුගේ ඵලයෙහි වලිකය කෙසේ වේද පැහැදිලි කරන්න.

16. a. ආරෝපණය කරන ලද සන්නායක තහඩු දෙකක් අතර ලෝහ කුට්ටියක්, විදුරු කුට්ටියක් හා ලෝහ කෝලයක් පවතින අයුරු පහතින් දැක්වේ. එක් එක් අවස්ථාවේ දී තහඩු අතර විද්‍යුත් බල රේඛා පවතින අයුරු ඇඳ පෙන්වන්න.



b. ඒකීය දිගක q ආරෝපණයක් පවතින දිගු සන්නායක කම්බියක සිට r දුරින් පිහිටි ලක්ෂ්‍යයක විද්‍යුත් ක්ෂේත්‍ර නිවැරදිකම (E) කෙරීම සඳහා ගවුස් ප්‍රමේයය යොදාගන්න. r සමඟ E හි විචලනය දැක්වෙන ප්‍රස්ථාරය අඳින්න.

c. එකම ලක්ෂ්‍යයකට ගැයගතා ඇති සැහැල්ලු අවිනන්‍ය තන්තු 2 ක් මගින් සමාන ආරෝපණ සහිත කුඩා ගෝල 2 ක් එල්ලා ඇත. ගෝල 2 ක වික්ෂයේ පවතින විට හා ඝනත්වය 1.2 kgm^{-3} හා පාරවිද්‍යුත් නියතය 1.04 වන මාධ්‍යයක පවතින විට ගෝල අතර පරතර එකම වේ නම් ගෝල සාදා ඇති ද්‍රව්‍යයේ ඝනත්වය කොයන්න.

d. රළ කිරිස් තලයක්මත එකිනෙක ස්පර්ෂව පවතින එක එකහි ස්කන්ධය 50kg බැගින් වන ස්වභවය A හා B උදාහිත ලෝහ කුට්ටි 2 ක් පහතින් දැක්වේ.



$300 \mu\text{C}$ ආරෝපණයක් සහිත තවත් ස්වභවය ලෝහ කුට්ටියක් A හමඟ ස්පර්ශ කර ඉවතට ගත් විට A හා B 2m දුරක් විචල්‍යවන බව නිශ්චල වේ. මාධ්‍යයේ ඝනත්වය පාරවේද්‍යතාව 1.5 වේ.

$$\left(\frac{1}{4\pi \epsilon_0} = 9 \times 10^9 \text{ Nm}^2 \text{C}^{-2} \right)$$

- (i) A හා B හි ආරෝපණ කොයන්න.
- (ii) A, B හා පෘෂ්ඨය අතර විචල්‍ය බලය ගණනය කරන්න.