



සිතාපත මධ්‍ය මහා විද්‍යාලය - අවිස්සාවේලි

I වාර පරීක්ෂණය - 2023 (මැයි)

13 ශ්‍රේණිය

රසායන විද්‍යාව I

කාලය - පැය 2

රසායන විද්‍යාව I
Chemistry I

02

S

I

පැය දෙකයි
Two Hours

උපදෙස්:

- ආවර්තිතා වගුවක් සපයා ඇත.
- වෙළුම් ප්‍රශ්න පත්‍රය පිටු 09 නික් සමන්විතය.
- සියලුම ප්‍රශ්න වලට පිළිතුරු සපයන්න.
- උත්තර පත්‍රයේ නියමිත ස්ථානයේ නිවැරදි හෝ වැරදි ලෙසට පිළිතුරු ලියන්න.
- I සිට 50 තෙක් එක් එක් ප්‍රශ්නයට (1), (2), (3), (4), (5) යන පිළිතුරු වලින් නිවැරදි හෝ ඉතාමත් ඉහළම පිළිතුරු තෝරා ගෙන, එය උත්තර පත්‍රයේ පිටුපස දැක්වෙන උපදෙස් පරිදි කතිරයක් (x) යොදා දක්වන්න.

විද්‍යුත් නියතය $R = 8.314 \text{ JK}^{-1} \text{ mol}^{-1}$
 ඇවගාඩ්‍රෝ නියතය $N_A = 6.022 \times 10^{23} \text{ mol}^{-1}$
 ආලෝකයේ වේගය $c = 3 \times 10^8 \text{ ms}^{-1}$
 ප්ලාන්ක් නියතය $h = 6.626 \times 10^{-34} \text{ Js}$

01. ඉලෙක්ට්‍රෝනයේ ආරෝපණය මුල්වරට අනාවරණය කරගැනීමට සමත්වූයේ කවුරුන්ද?
 (1). J.J. තෝමසන් (2). රොබට් මිලිකන්
 (3). විලියම් කැක්සි (4). ඉයුජින් ගේල්ඩ්ස්ටයින්
 (5). අර්නස්ට් රදර්ෆඩ්
02. ClO_2^- අයනයෙහි මධ්‍ය පරමාණුව වටා හැඩය සහ ඉලෙක්ට්‍රෝන යුගල ජ්‍යාමිතිය පිළිවෙලින් නිවැරදිව දක්වන පිළිතුර මින් කුමක් ද?
 (1). තෝණික, වතුස්තලීය (2). වතුස්තලීය, තෝණික
 (3). රේඛීය, ත්‍රිආනත ද්විපිරමීඩය (4). ත්‍රිආනත ද්විපිරමීඩය, රේඛීය
 (5). තෝණික, තලීය ත්‍රිකෝණාකාර
03. වායුමය පරමාණුවකට පළමු ඉලෙක්ට්‍රෝනය ලබාගැනීමේදී විශාලම තාපයක් නිදහස් කරනුයේ කුමන මූලද්‍රව්‍යයක පරමාණුවක් මගින්ද?
 (1). C (2). O (3). Si (4). P (5). S
04. සනත්වය 1.90 g cm^{-3} වන ජල සාම්පලයක අන්තර්ගත MgCl_2 ලවණයේ ස්කන්ධ ප්‍රතිශතය 5%කි. එම ජල සාම්පලයේ අන්තර්ගත Mg^{2+} ප්‍රමාණය ppm වලින් කොපමණද?
 ($\text{Mg} = 24, \text{Cl} = 35.5$)
 (1). 24 (2). 95 (3). 1000 (4). 24000 (5). 95000

05. ධන කිරණ සම්බන්ධයෙන් පහත සඳහන් කුමන වගන්තිය අසත්‍ය වේද?

- (1). සරල රේඛීය වලිනිය
- (2). අංශුමය ගුණ පැවතීම
- (3). විද්‍යුත් හා වුම්භක ක්ෂේත්‍රවලින් උත්ක්‍රමණය වීම
- (4). ඇනෝඩයෙන් ජනනය වීම
- (5). තලය තුළ ඇති වායුව අනුව වෙනස් වීම

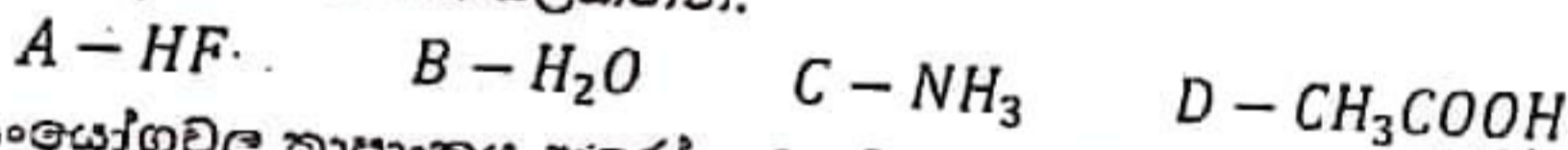
06. $\text{CH}_3\text{CH} = \overset{\text{CH}_2\text{CH}_3}{\underset{\text{CH}_2}{\text{C}}} - \overset{\text{O}}{\parallel}{\text{C}} - \text{H}$ යන සංයෝගයෙහි IUPAC නාමය නිවැරදිව දැක්වෙන්නේ කුමන පිළිතුර මගින්ද?

- (1). 4 - ethyl - 3 - oxo - 4 - hexenoic acid
- (2). 4 - ethyl - 3 - formyl - 4 - hexenoic acid
- (3). 4 - ethyl - 3 - methoxy - 4 - hexenoic acid
- (4). 4 - ethyl - 3 - methoxy - 4 - hexenoic acid
- (5). 4 - ethyl - 3 - formyl - 4 - hexenoic acid

07. 27°C දී පරිමාව $V \text{ cm}^3$ වන බඳුනක P_1 පීඩනයේදී He වායු සාම්පලයක් අන්තර්ගත වේ. බඳුනේ පරිමාව අඩක් බවට පත්කොට උෂ්ණත්වය 400 K දක්වා ඉහළ නංවූ විට බඳුනේ පීඩනය P_2 වේ. P_1/P_2 අනුපාතය සම්බන්ධයෙන් නිවැරදි වන්නේ කුමන පිළිතුරකි?

- (1). $3/2$
- (2). $3/4$
- (3). $4/3$
- (4). $3/8$
- (5). $8/3$

08. පහත සඳහන් සංයෝග සලකන්න.



ඉහත සංයෝගවල තාපාංකය ආරෝහණය වන අනුපිළිවෙල වන්නේ මින් කවරකිද?

- (1). $C < B < D < A$
- (2). $C < A < B < D$
- (3). $C < D < A < B$
- (4). $D < C < A < B$
- (5). $D < C < B < A$

09. H_2O_2 අණුව පිළිබඳව කවර වගන්ති සත්‍ය වේද?

- (1). තාපය හමුවේ ද්විධාකරණය වේ.
- (2). ඔක්සිජන් පරමාණුවල මුහුම්කරණය sp^2 වේ.
- (3). ද්විධ්‍රැව සුර්ණය ශුන්‍ය වේ.
- (4). පරමාණු සියල්ල එකම තලයක පිහිටයි.
- (5). ඔක්සිජන් පරමාණුවල ඔක්සිකරණ අංකය -2 වේ.

10. ආම්ලික මාධ්‍යයේදී SO_3^{2-} අයන , IO_3^- මගින් SO_4^{2-} බවට ඔක්සිකරණය වේ. SO_3^{2-} අයන, $1 \times 10^{-3} \text{ mol}$ ක් අන්තර්ගත ජලීය ද්‍රාවණයකට වැඩිපුර KIO_3 යොදනු ලැබේ. නිදහස්වන I_2 , සාන්ද්‍රණය නොදන්නා $\text{Na}_2\text{S}_2\text{O}_3$ ජලීය ද්‍රාවණයක් මගින්, දර්ශකය ලෙස පිෂ්ඨය යොදා අනුමාපනය කළ විට බියුරෙට්ටු පාඨාංකය 10.00 cm^3 ක් වේ. $\text{Na}_2\text{S}_2\text{O}_3$ හි සාන්ද්‍රණය (mol dm^{-3}) කොපමණ වේද?

- (1). 0.02
- (2). 0.04
- (3). 0.08
- (4). 0.4
- (5). 0.8

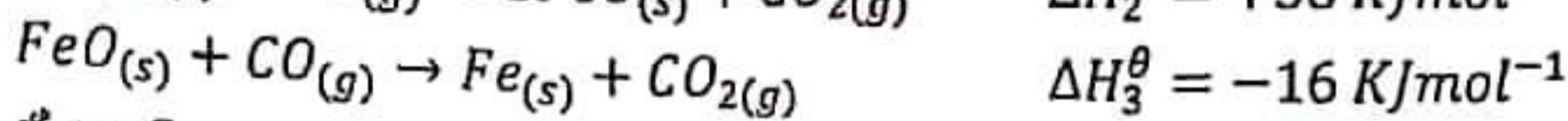
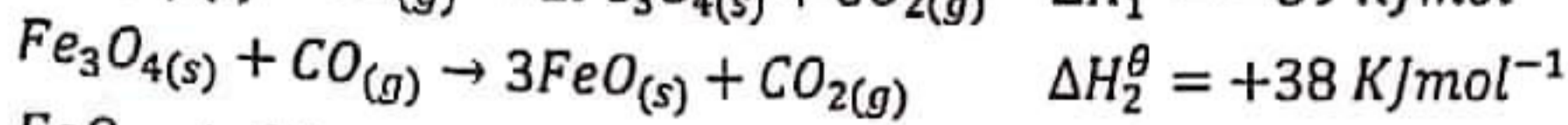
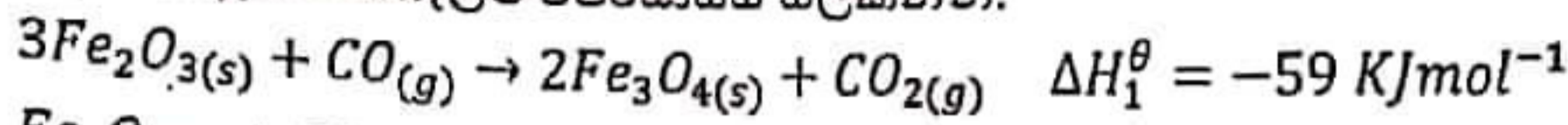
11. 1 - butene සමබන්ධයෙන් පහත දී ඇති ප්‍රකාශවලින් සත්‍ය නොවන්නේ කුමක්ද?

- (1). පාරත්‍රිමාන සමාවයවිකතාව පෙන්වයි.
- (2). මූලික මාධ්‍යයේදී HBr ආකලනයෙන් ලැබෙන ඵලය ත්‍රිමාන සමාවයවිකතාව පෙන්වයි.
- (3). Br₂ දියර විවරණ කරයි.
- (4). ආම්ලික KMnO₄ තුළට යැවූවිට දම්පැහැය අවරණ වේ.
- (5). සිසිල් ක්ෂාරිය KMnO₄ සමඟ ග්ලයිකොහොලයක් ලබා දේ.

12. පහත සඳහන් කවර සංයෝගය රත්කිරීමේදී වායුමය ඵල එකක් පමණක් ලබාදේද?

- (1). KNO₃
- (2). Na₂CO₃
- (3). Mg(NO₃)₂
- (4). (NH₄)₂CO₃
- (5). NaHCO₃

13. පහත දක්වා ඇති එන්තැල්පි විපර්යාසය සලකන්න.

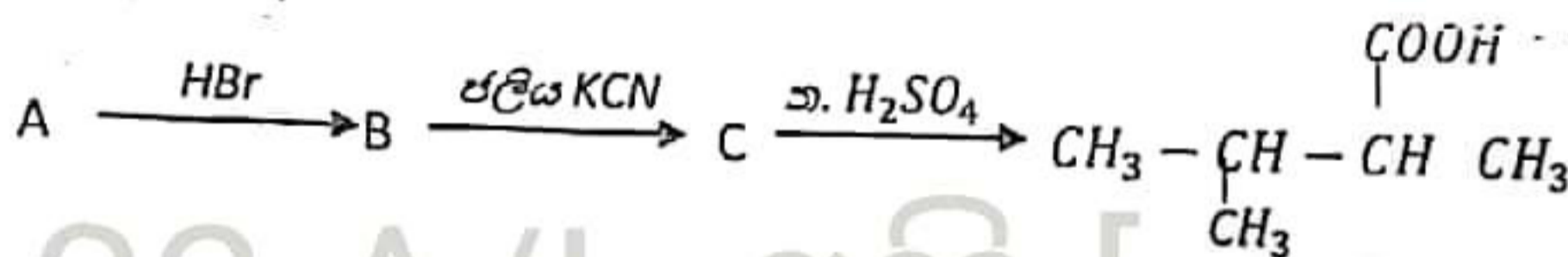


ඒ අනුව



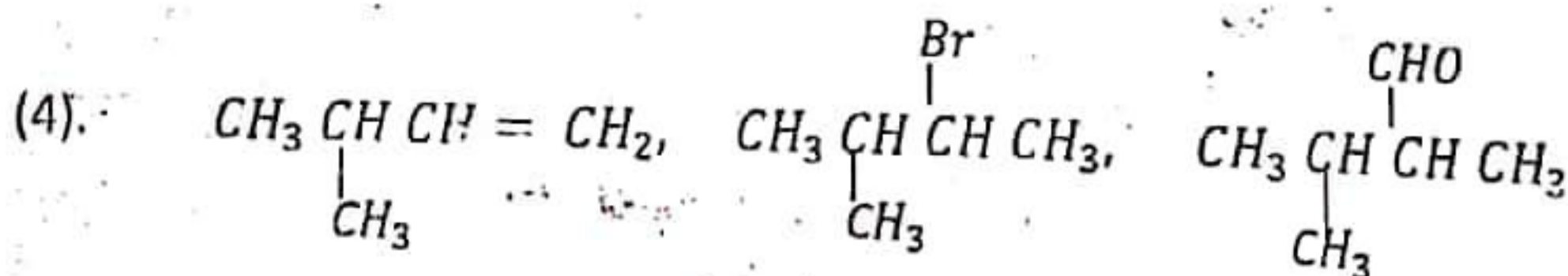
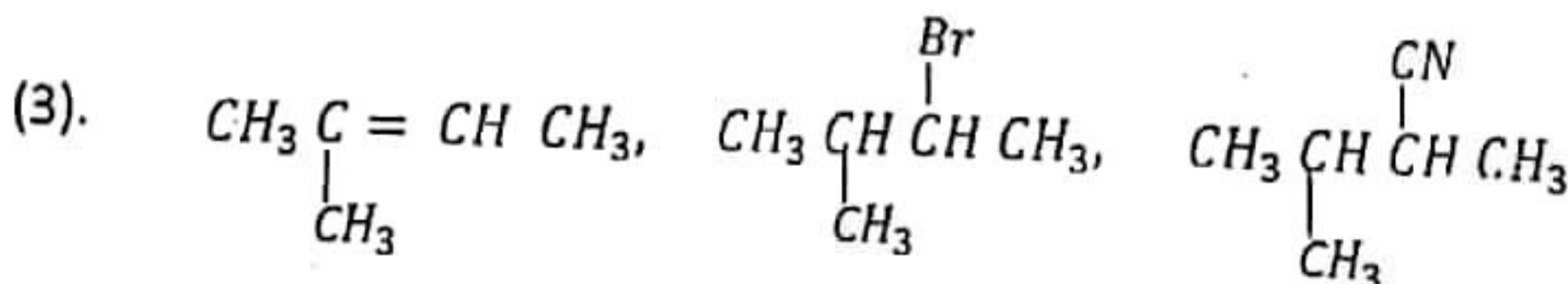
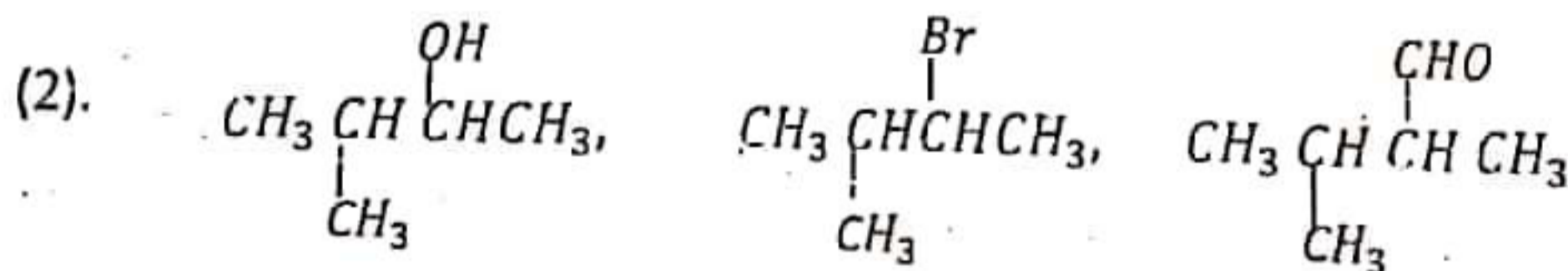
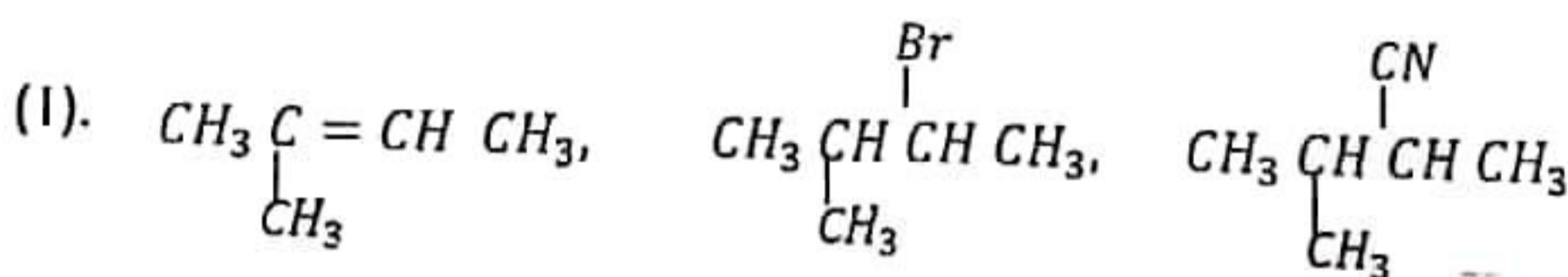
- (1) -13 (2) -26 (3) -37 (4) -77 (5) -113

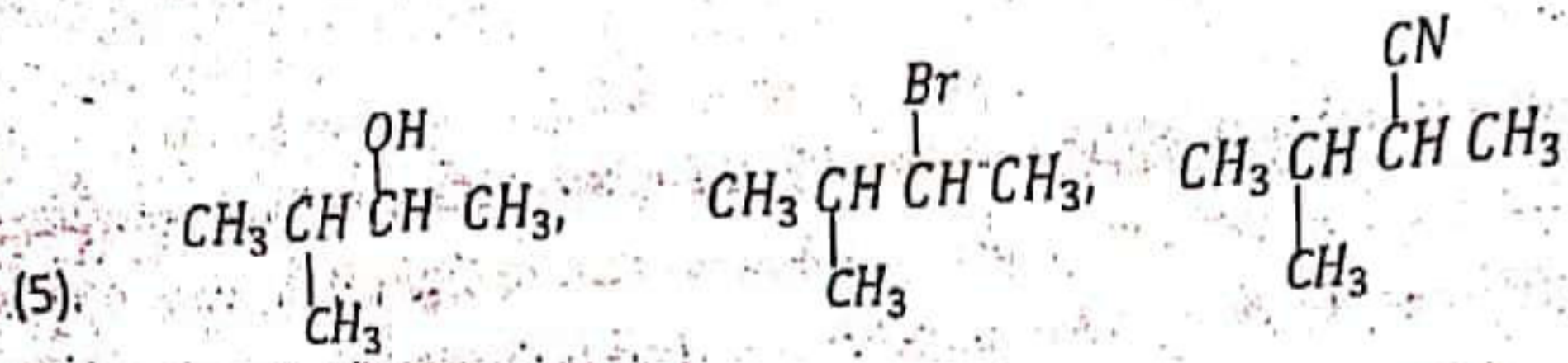
14. පහත ප්‍රතික්‍රියා දාමය සලකන්න.



22 A/L අපි [papers grp]

ඉහත ප්‍රතික්‍රියා දාමය අනුව A, B, C සංයෝග පිළිවෙලින් දක්වා ඇති නිවැරදි පිළිතුර තෝරන්න.





15. A නම් සහ අකාබනික සංයෝගයට තනුක HCl එකතු කළ විට අවර්ණ වායුවක් පිටවූ අතර පැහැදිලි අවර්ණ ද්‍රාවණයක් ලැබුණි. පිටවූ වායුව මගින් ආම්ලික පොටෑසියම් පර්මැංගනේට් ද්‍රාවණයක වර්ණ විපර්යාසයක් සිදු නොවීය. A විය හැක්කේ මින් කුමක්ද?

- (1). BaS (2). CaCO₃ (3). Na₂SO₃ (4). FeSO₃ (5). NiCO₃

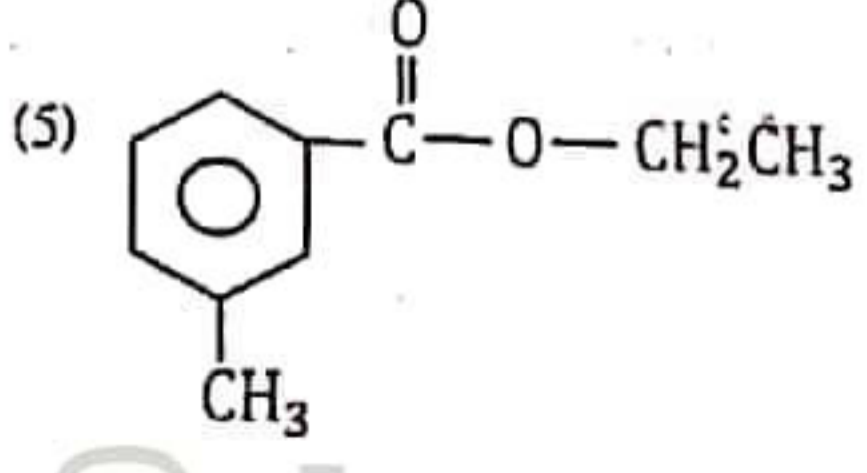
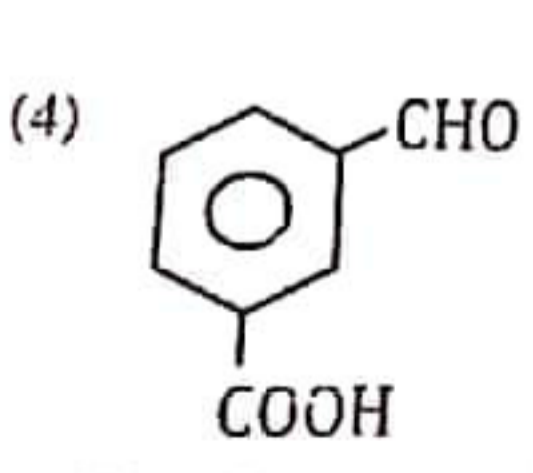
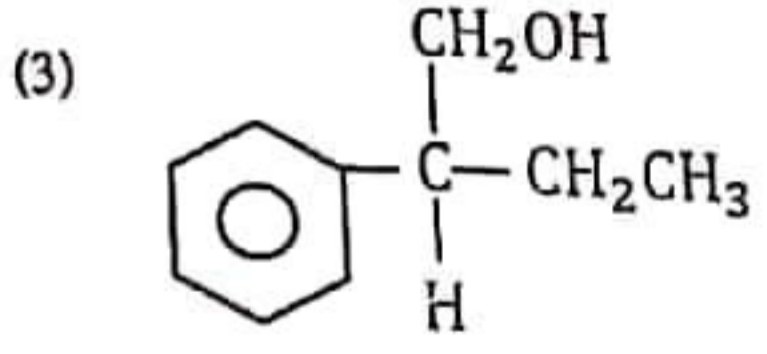
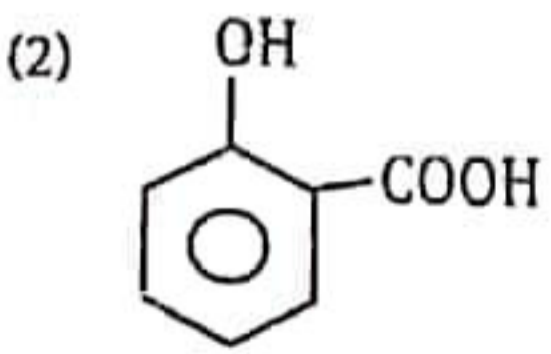
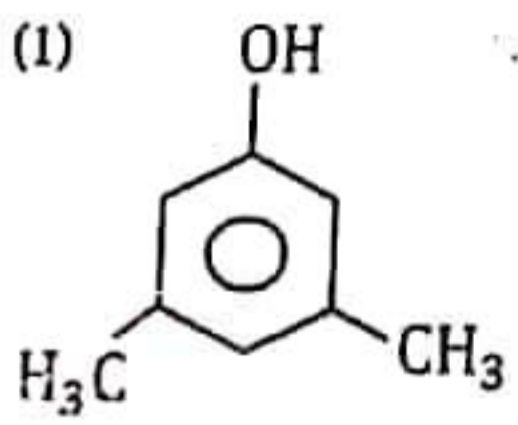
16. ඝාතවික වායුවක් සම්බන්ධයෙන් නිවැරදි වගන්තිය වන්නේ මින් කුමක් ද?

- (1) නියත උෂ්ණත්වයේ දී PV නියතයක් වේ.
- (2) පීඩනයට එරෙහිව සම්පීඩනයා සාධකයෙහි ප්‍රස්ථාරය සියලු පීඩන සඳහා සරල රේඛාවක් වේ.
- (3) පීඩනය අඩුවන විට වායු අන්තර්ගත පරිමාව විශාල වන බැවින් වායු අණුවක පරිමාව නොසලකා හැරිය හැක.
- (4) අඩු උෂ්ණත්ව වල දී අණුවල වාලක ශක්තිය අඩුවන බැවින් පරිපූරණ වායු තත්ත්වයට ලඟා වේ.
- (5) තාත්වික වායුවක හාසිරීම PV = nRT යන සමීකරණයෙන් විස්තර කළ නැතිය.

17. කොළ, නිල්, අවර්ණ වර්ණයන්ට අනුරූප සංගත සංකීර්ණ අයන පිළිවෙලින් දැක්වෙන නිදර්ශී පිළිතුර මින් කුමක්ද?

- (1). [Cr(H₂O)₆]³⁺, [NiCl₄]²⁻, [Zn(H₂O)₆]²⁺
- (2). [Ni(H₂O)₆]²⁺, [CuCl₄]²⁻, [Zn(NH₃)₄]²⁺
- (3). [Cr(OH)₆]³⁻, [Ni(NH₃)₆]²⁺, [FeCl₄]²⁻
- (4). [Fe(H₂O)₆]²⁺, [CoCl₄]²⁻, [Al(H₂O)₆]³⁺
- (5). [Fe(H₂O)₆]³⁺, [Cu(NH₃)₄]²⁺, [Ag(NH₃)₂]⁺

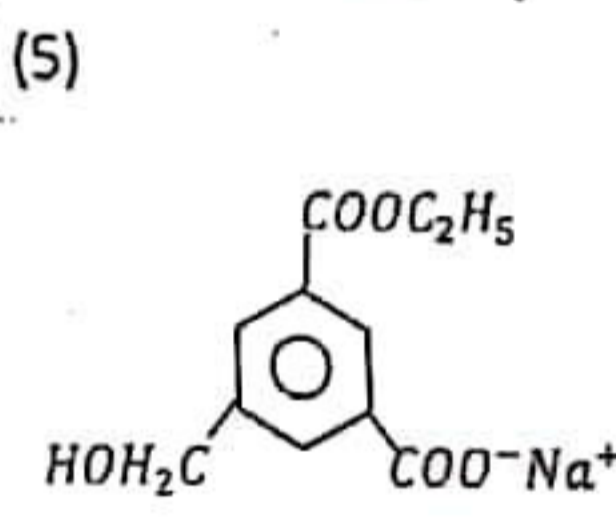
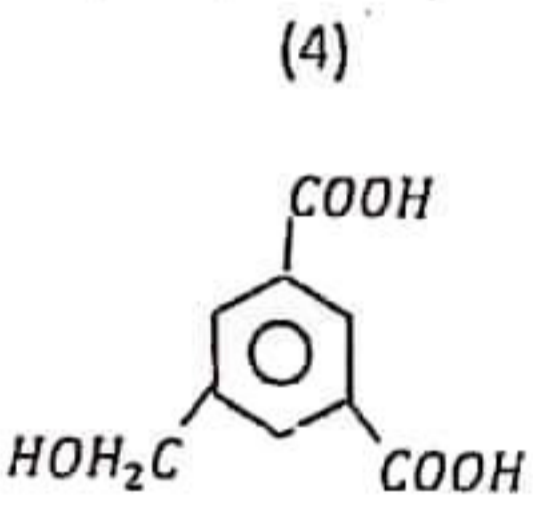
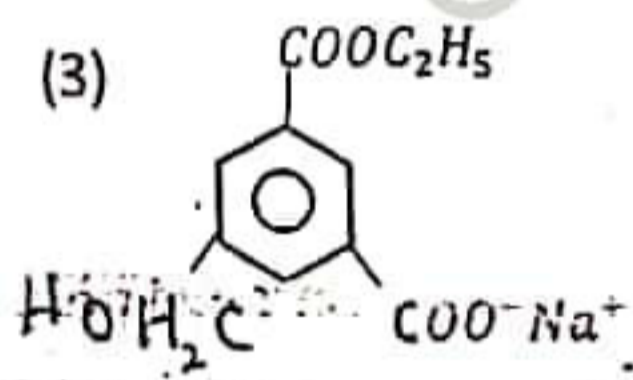
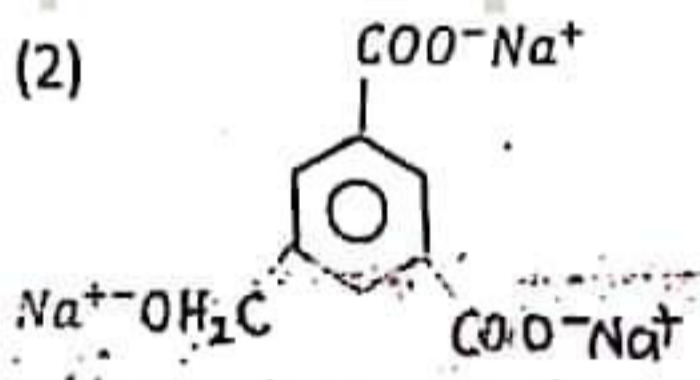
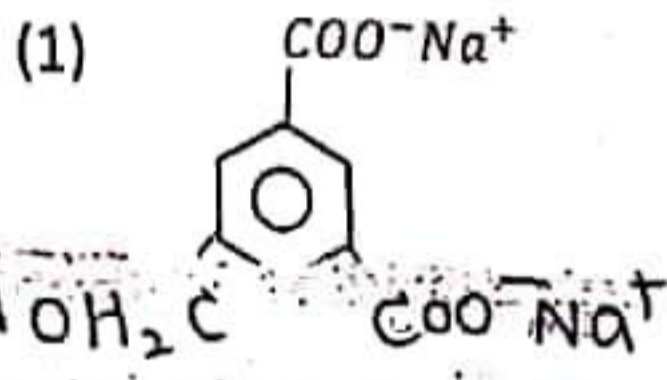
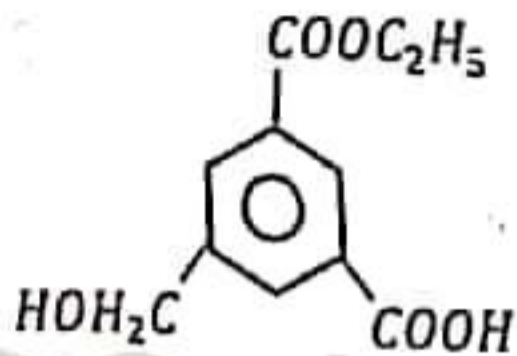
18. A නම් සංයෝගය Na සමග ප්‍රතික්‍රියා කරන තමුත් NaOH සමග ප්‍රතික්‍රියා නොකරයි. A විය හැක්කේ මින් කුමක් ද?



19. ප්‍රධාන ක්වොන්ටම් අංකය n සහ උද්දීග්‍රණ ක්වොන්ටම් අංකය l සම්බන්ධයෙන් වන පහත ප්‍රකාශවලින් සත්‍ය නොවන්නේ කුමක්ද?

- (1). ප්‍රධාන ශක්ති මට්ටමක පවතින සමස්ත කාක්ෂික සංඛ්‍යාව n^2 වේ.
- (2). ප්‍රධාන ශක්ති මට්ටමක පවතින උපශක්තිමට්ටම් සංඛ්‍යාව $2n$ වේ.
- (3). ප්‍රධාන ශක්තිමට්ටමක පිරිමට හැකි උපරිම ඉලෙක්ට්‍රෝන සංඛ්‍යාව $2n^2$ වේ.
- (4). උප ශක්තිමට්ටමක පවතින කාක්ෂික සංඛ්‍යාව $2l+1$ වේ.
- (5). උපශක්තිමට්ටමක පිරියහැකි උපරිම ඉලෙක්ට්‍රෝන සංඛ්‍යාව $2(2l+1)$ වේ.

20. යන සංයෝගය තනුක $NaOH$ සමඟ ප්‍රතික්‍රියාවෙන් ලැබෙන ප්‍රධාන ඵලය මින් කුමක්ද?



21. සහ Na_2SO_3 සහ $Na_2S_2O_3$ මිශ්‍රණයකට තනුක HCl එකතු කරන ලදී. එහිදී පිටවන වායුව/වායු ජලයේ දිය කළ විට එම ද්‍රාවණයේ තිබිය හැකි ඇතැයන වන්නේ,

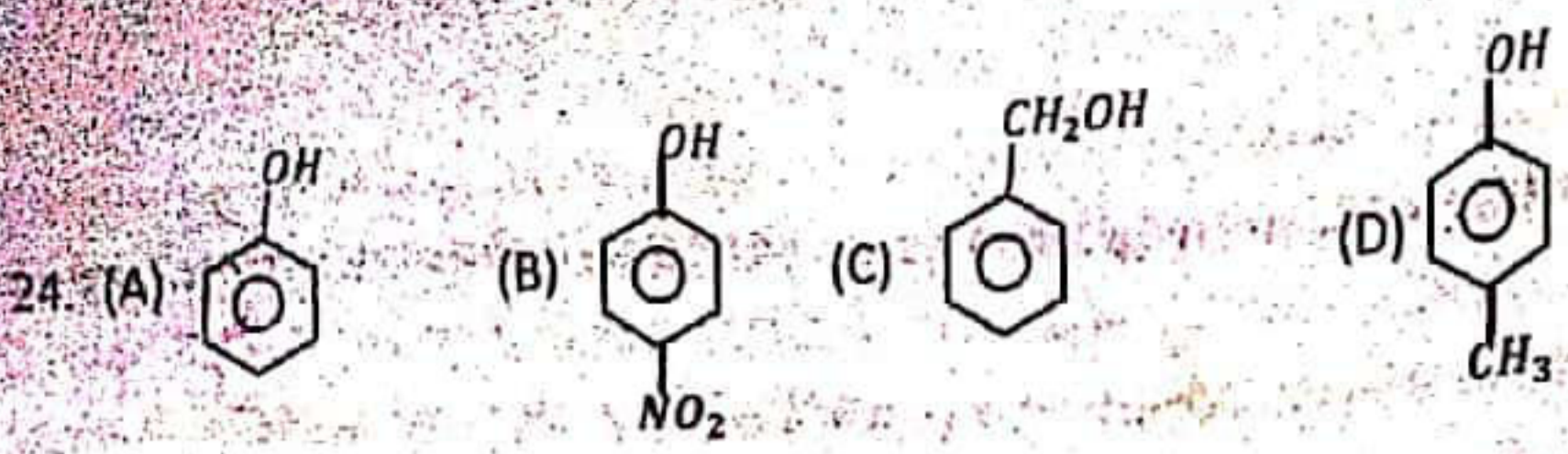
- | | | |
|--------------------------------|-----------------------------|---------------------------|
| (1) SO_3^{2-} හා SO_4^{2-} | (2) S^{2-} හා SO_3^{2-} | (3) SO_3^{2-} හා Cl^- |
| (4) SO_4^{2-} හා S^{2-} | (5) SO_4^{2-} හා Cl^- | |

22. පහත සඳහන් කුමන ජලීය ද්‍රාවණය $NaHCO_3$ සමඟ වායුමය ඵලයක් ලබා නොදේද?

- (1). $NaCl$ (2). $AlCl_3$ (3). $SiCl_4$ (4). PCl_3 (5). SCl_2

23. පරිමාව $5dm^3$ ක් වන දෘඪ, සංවෘත බඳුනක් තුළ He වායු අණු 6.022×10^{22} ක් අන්තර්ගත වන අතර පීඩනය $2 \times 10^5 Pa$ වේ. He වායු අණුවල වර්ග මධ්‍යන්‍ය ප්‍රවේගය m^2s^{-2} වලින් කොපමණද?

- (He = 4)
- | | |
|-----------------------------|-----------------------------|
| (1). 2.08×10^{-18} | (2). 3.12×10^{-19} |
| (3). 1.25×10^{-17} | (4). 2.5×10^{-17} |
| (5). 3.75×10^{-17} | |



ඉහත සංයෝගවල ආම්ලිකතා අවරෝහණය වන නිවැරදි අනුපිළිවෙල වන්නේ කුමක්ද?

- (1). $A > B > D > C$
- (2). $B > D > A > C$
- (3). $B > A > C > D$
- (4). $B > A > D > C$
- (5). $A > C > B > D$

25. 3d මූලද්‍රව්‍ය සම්බන්ධයෙන් සත්‍ය නොවන්නේ පහත සඳහන් කවරක්ද?

- (1). ඉහළම තාපාංකය V වලට ඇත.
- (2). සියල්ල ලෝහ වේ.
- (3). අඩුම තාපාංකය Mn වලට ඇත.
- (4). Zn හැර ඉතිරි සියල්ල අන්තර්ක මූලද්‍රව්‍ය වේ.
- (5). Zn සහ Sc හැර අනෙක් සියල්ල වර්ණවත් සංයෝග සාදයි.

26. සාපේක්ෂ ප්‍රතික්‍රියාවක් T_1 උෂ්ණත්වයේ සිදුවන අතර T_2 උෂ්ණත්වයේ සිදුවන අතර $T_2 > T_1$ වේ. T_1 හිදී $\Delta H < 0, \Delta S < 0, \Delta G > 0$ වන අතර T_2 හිදී $\Delta H < 0, \Delta S < 0, \Delta G < 0$ වේ. T_1 හිදී ප්‍රතික්‍රියාව සම්බන්ධයෙන් සත්‍ය වන්නේ කුමක්ද?

- (1). $\Delta H > 0, \Delta S > 0, \Delta G < 0$
- (2). $\Delta H > 0, \Delta S < 0, \Delta G > 0$
- (3). $\Delta H < 0, \Delta S < 0, \Delta G > 0$
- (4). $\Delta H < 0, \Delta S < 0, \Delta G < 0$
- (5). $\Delta H > 0, \Delta S > 0, \Delta G > 0$

27. $CH_3CH_2C(=O)Cl$ සංයෝගය, තනුක NaOH සමඟ ප්‍රතික්‍රියාවේ යාන්ත්‍රණය සම්බන්ධයෙන් සුදුසුම පැහැදිලි කිරීම වන්නේ මින් කුමක්ද?

- (1). නියුක්ලියෝෆිලික ආදේශ
- (2). නියුක්ලියෝෆිලික ආකලන
- (3). ඉලෙක්ට්‍රෝෆිලික ආදේශ
- (4). ඉලෙක්ට්‍රෝෆිලික ආකලන
- (5). ඉවත්වීම

28. රසායනික ප්‍රතික්‍රියාවක ශීඝ්‍රතාවය සම්බන්ධයෙන් සාවද්‍ය ප්‍රකාශය වන්නේ කුමක් ද?

- (1). ප්‍රතික්‍රියාවේ වේග නියතය උෂ්ණත්වය මත රඳා පවතී.
- (2). ප්‍රතික්‍රියා ශීඝ්‍රතාවයේ ඒකකය ප්‍රතික්‍රියා පෙළ මත රඳා පවතී.
- (3). උත්ප්‍රේරක, ප්‍රතික්‍රියාවේ සක්‍රියත ශක්තිය අඩුකිරීමට හේතුවේ.
- (4). උෂ්ණත්වය වැඩිවන විට සක්‍රියත ශක්තිය ඉක්මවූ ප්‍රතික්‍රියක අණුභාගය වැඩිවේ.
- (5). සාන්ද්‍රණය වැඩිවන විට ඒකීය පරිමාවක අන්තර්ගත ප්‍රතික්‍රියක අණු සංඛ්‍යාව වැඩි වේ.

29. පරමාණුක කාණ්ඩ සම්බන්ධයෙන් අසත්‍ය ප්‍රකාශය වන්නේ මින් කුමක් ද?

- (1) න්‍යෂ්ටිය වටා ඉලෙක්ට්‍රෝන සහත්වය ව්‍යාප්ත වී ඇති ආකාරය කාණ්ඩ වල හැඩයෙන් දැක්වේ.
- (2) s, p, d හා f යන ජන එක් එක් උප කවච වල පිහිටා ඇති කාණ්ඩ එකිනෙකින් වෙනස් වන්නේ අවකාශීය දිශානතියෙන් පමණි.
- (3) n, l හා m_l ක්වොන්ටම් අංක මගින් ඉලෙක්ට්‍රෝන සැරිසරන කාණ්ඩයක් පිළිබඳ විස්තර කරයි.
- (4) ප්‍රධාන ක්වොන්ටම් අංකය n හි අගය වැඩිවීමේදී කාණ්ඩයේ ප්‍රමාණය විශාල වේ.
- (5) ප්‍රමුඛක ක්වොන්ටම් අංකය m_l ට තිබිය හැකි අගයන් සංඛ්‍යාව උප කවචයක තිබිය හැකි කාණ්ඩ සංඛ්‍යාවට සමාන වේ.

30. HPO_4^{2-} හි සංයුත්මයක හෂ්මය වන්නේ මින් කවරක්ද?

- (1). PO_4^{3-} (2). $H_2PO_4^-$ (3). HPO_3^- (4). HPO_2^- (5). H_3PO_4

ප්‍රශ්න අංක 31 සිට 40. වෙත එක් එක් ප්‍රශ්නය සඳහා දී ඇති (a), (b), (c) සහ (d) යන ප්‍රතිචාර හතර අතුරින් එකක් හෝ වැඩි සංඛ්‍යාවක් නිවැරදිය නිවැරදි ප්‍රතිචාරය, ප්‍රතිචාර කවරේ දැයි තෝරන්න.

- (a) හා (b) පමණක් නිවැරදි නම් (1) මත ද
 (b) හා (c) පමණක් නිවැරදි නම් (2) මත ද
 (c) හා (d) පමණක් නිවැරදි නම් (3) මත ද
 (d) හා (a) පමණක් නිවැරදි නම් (4) මත ද

වෙනත් ප්‍රතිචාර සංඛ්‍යාවක් හෝ සංයෝජනයක් හෝ නිවැරදි නම් (5) මතද පිළිතුර උකුණු කරන්න
 ඉහත උපදෙස් සම්පිණ්ඩනය

(1)	(2)	(3)	(4)	(5)
(a) හා (b) පමණක් නිවැරදිය	(b) හා (c) පමණක් නිවැරදිය	(c) හා (d) පමණක් නිවැරදිය	(d) හා (a) පමණක් නිවැරදිය	වෙනත් ප්‍රතිචාර සංඛ්‍යාවක් හෝ සංයෝජනයක් නිවැරදිය

22 A/L අපි [papers grp]

31. පහත දී ඇති සංගත සංකීර්ණ අයනය සමඟ අදාළ IUPAC නාමය නිවැරදිව ගලපා ඇත්තේ කුමන පිළිතුර/ පිළිතුරු මිනිසාද?

- (a). $[Ni(H_2O)_6]^{2+}$ - hexaqua nickelate(II) ion
 (b). $[Cu(NH_3)_4]^{2+}$ - tetraammine copper(II) ion
 (c). $[CoCl_4]^{2-}$ - tetrachlorido cobaltate(II) ion
 (d). $[Cr(OH)_6]^{3-}$ - hexahydroxido chromium(III) ion

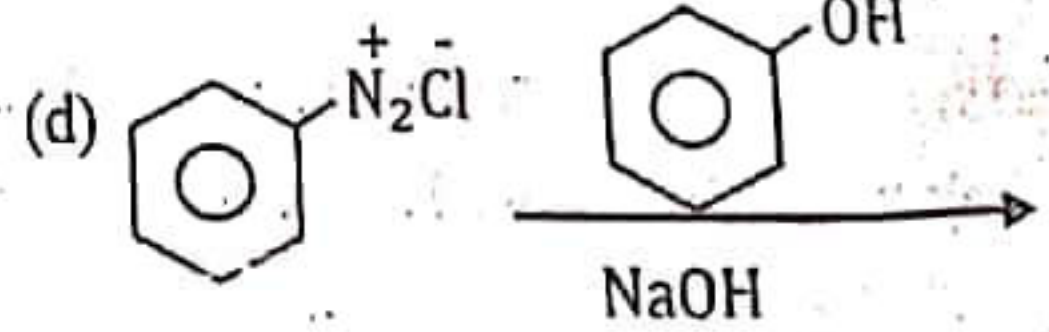
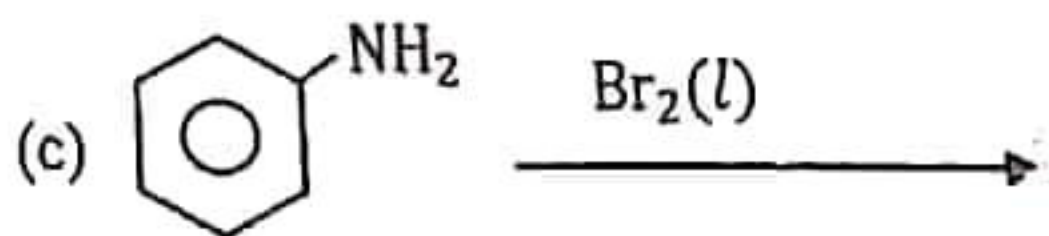
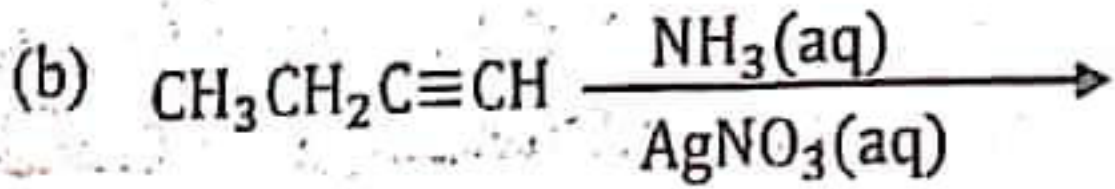
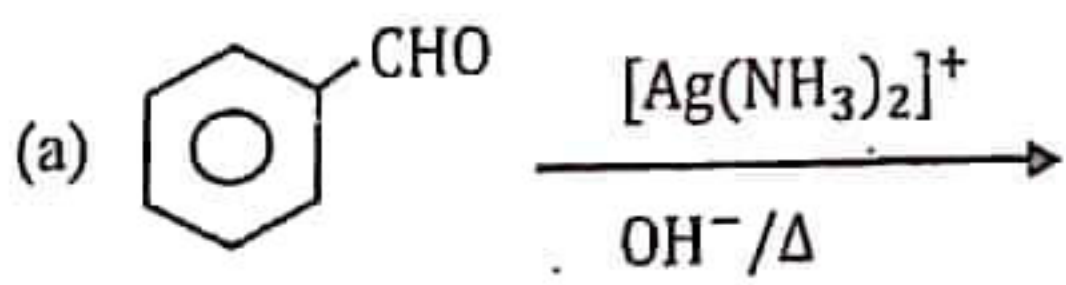
32. සාන්ද්‍රණය 2 mol dm^{-3} වන KCl ජලීය ද්‍රාවණ 100 cm^3 ක ඇති අයන සංඛ්‍යාව අන්තර්ගත වන්නේ පහත සඳහන් කුමන ද්‍රාවණය/ ද්‍රාවණ තුළද?

- (a). 1 mol dm^{-3} , $MgSO_4$ 200 cm^3
 (b). 0.5 mol dm^{-3} , $NaNO_3$ 400 cm^3
 (c). 1 mol dm^{-3} , K_2SO_4 600 cm^3
 (d). 2 mol dm^{-3} , $Ca(NO_3)_2$ 300 cm^3

33. පහත දැක්වෙන කවර සහ සංයෝගය/ සංයෝග, නනුක HCl සමඟ ප්‍රතික්‍රියා කර වායුවක් ලබා නොදේද?

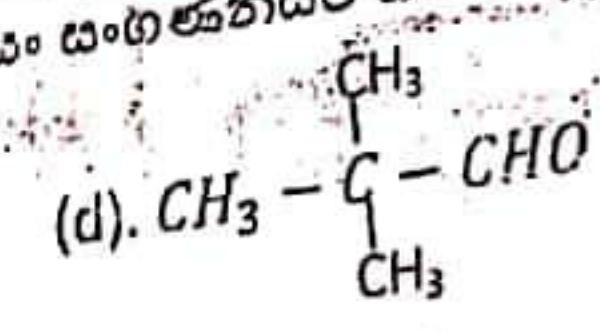
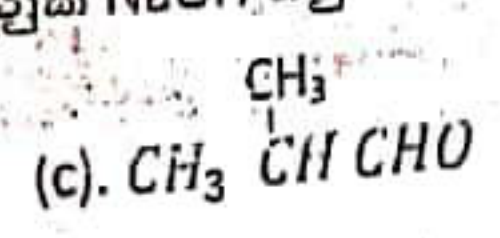
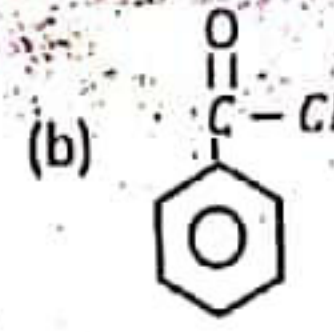
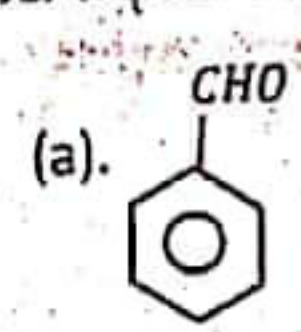
- (a). $BaSO_3$ (b). $Na_2S_2O_3$ (c). $CaSO_4$ (d). KNO_3

34. පහත සඳහන් කුමන අවස්ථාවේ දී/ අවස්ථා වලදී පුදු පැහැති අවස්ථාපයක් නිරීක්ෂණය කළ හැකි ද?



35. සහසංයුජ සංයෝගයක් සම්බන්ධයෙන් කවර වගන්තිය/වගන්ති සාවද්‍ය වේද?
 (a) තාපාංකදාහාරවිටම අයනික සංයෝගවලට සාපේක්ෂව පහළ අගයක් ගනී.
 (b) අසමාන පරමාණු බන්ධනය වූ විට කිසියම් ප්‍රමාණයකට අයනික ලක්ෂණ පෙන්වයි.
 (c) සාමාන්‍යයෙන් නිර්මූලීය ද්‍රාවක තුළ දියවේ.
 (d) ජලීය මෙන්ම විලීන ද්‍රාවණ තුළින් ද විද්‍යුත් සන්නායකය වේ.

36. පහත සඳහන් කවර සංයෝගය/සංයෝග තනුක NaOH හමුවේ ස්වයං සංගුණනයට භාජනය වේද?



37. Sc^{3+} සහ Zn^{2+} අයන පිළිබඳව මින් කුමන වගන්තිය/වගන්ති සත්‍ය වේ ද?
 (a) අයන දෙකෙහිම අර්ධ ලෙස පිරුණු 3d උපකෝෂි මට්ටමක් ඇත.
 (b) අයන දෙකම ජලීය ද්‍රාවණ වලදී අවර්ණ වේ.
 (c) මෙම අයන දෙකම ආන්තරික මූලද්‍රව්‍ය දෙකකින් සාදන අයන 02 කි.
 (d) ජලීය ද්‍රාවණ වලදී මෙම අයන විද්‍යුත් චුම්බක වර්ණාවලියේ දෘශ්‍ය විකිරණ අවශෝෂණය කරයි.

38. $MgCl_2(s)$ ඒ සඳහා වැඩිම ජලීය චුම්බකත්වය ගන්නා අවශ්‍ය වන්තරයන් කවර වුවද?

- (a) මැග්නීසියම්වල සම්මත උපරිධවසාන වන්තරය
- (b) ක්ලෝරීන්වල සම්මත පරමාණුකරණ චන්තූලය
- (c) ක්ලෝරීන්වල සම්මත දෙවන ඉලෙක්ට්‍රෝනකරණ චන්තූලය
- (d) මැග්නීසියම්වල සම්මත පලමු සහ දෙවන අයනීකරණ චන්තූලය

39. UV කිරණ හමුවේ මෙතේන් ක්ලෝරීනීකරණය සම්බන්ධව මින් කුමන වගන්තිය/වගන්ති සත්‍ය වන්නේ ද?
 (a) Cl_2 සම්විච්ඡේදනයෙන් ලැබෙන ක්ලෝරීන් මුක්ත බන්ධන සමග මෙතේන් ප්‍රතික්‍රියා කරයි.
 (b) මෙතේන් වල C-H බන්ධන විෂම විච්ඡේදනයෙන් $\cdot CH_3$ සාදේ.
 (c) දාම ප්‍රචාරණ පියවරේ දී මුක්ත බන්ධන වැය වන තමුත් නැවත නිපදවීමක් සිදු නොවේ.
 (d) දාම අවසන් ප්‍රතික්‍රියා වලදී මුක්ත බන්ධන අවසන් වීම සිදු වේ.

22 A/L අපි [papers grp]

40. බෙන්සීන් ධයයෝනියම් ලවණ සම්බන්ධයෙන් පහත සඳහන් කවර වගන්තිය/ වගන්ති සත්‍ය වේද?
 (a) ඉහළ උෂ්ණත්වයේදී අස්ථායී වේ.
 (b) නියුක්ලියෝෆයිලයක් ලෙස ක්‍රියාකරයි.
 (c) H_3PO_3 මගින් බෙන්සීන් බවට පරිවර්තනය කළ හැකිය.
 (d) ෆිනෝල් සමඟ ක්ෂාරීය මාධ්‍යයේදී ප්‍රතික්‍රියා කරමින් වර්ණවත් සායමක් ලබාදේ.

ප්‍රශ්න අංක 41 සිට 50 තෙක් එක් එක් ප්‍රශ්නය සඳහා ප්‍රකාශ දෙන බැගින් ඉදිරිපත් කර ඇත. එම ප්‍රකාශ ප්‍රශ්නයට භාග්‍යවත් වන ලෙස පහත වගුවෙහි දැක්වෙන පරිදි (1),(2),(3),(4) සහ (5) යන ප්‍රතිචාර වලින් කවර ප්‍රතිචාරය දැයි පත්‍යාලයක් පත්‍යාලයේ උචිත ලෙස ලකුණු කරන්න.

ප්‍රතිචාරය	ප්‍රකාශය	දෙවැනි ප්‍රකාශය
(1)	සත්‍ය වේ	සත්‍ය වන පමණක් ප්‍රකාශය නිවැරදි ව පහදා දෙයි.
(2)	සත්‍ය වේ	සත්‍ය වන නමුත් ප්‍රකාශය නිවැරදි ව පහදා නොදෙයි.
(3)	සත්‍ය වේ	අසත්‍ය වේ
(4)	අසත්‍ය වේ	සත්‍ය වේ
(5)	අසත්‍ය වේ	අසත්‍ය වේ

ප්‍රකාශය	දෙවන ප්‍රකාශය
41 Na ලෝහයට වඩා Mg ලෝහය සන්නාමයෙන් වැඩිය	Na වලට සාපේක්ෂව Mg හි ලෝහ ගුණ වැඩිය.
42 පරිපූර්ණ වායුවක සන්නාමය එහි මවුලික ස්කන්ධයට අනුලෝමව සමානුපාතික වේ.	පරිපූර්ණ වායු අණුවක ස්කන්ධය නොගිනිය හැකිය.
43 මෙතනොයික් අම්ලය, වොලන්ස් ප්‍රතිකාරකය සමඟ විපර්යාසයක් සිදු නොවේ.	මෙතනොයික් අම්ලය, වොලන්ස් ප්‍රතිකාරකය මගින් ඔක්සිකරණය නොවේ.
44 Fe^{2+} අයනයට වඩා Fe^{3+} අයනය ස්ථය වේ.	Fe^{3+} අයනයෙහි 3d කාක්ෂික දර්ශනවශයෙන් පිරී ඇති අතර, Fe^{2+} අයනයෙහි එසේ නොවේ.
45 HF සහ HCl යන අම්ලවල ජලීය ද්‍රාවණ NaOH ජලීය ද්‍රාවණයක් මගින් උදාසීනකරණය කිරීමේදී සිදුවන එන්තැල්පි විපර්යාසයෙහි සංඛ්‍යාත්මක අගය HF ට වඩා HCl හි වැඩිය.	ජලීය HF, ජලීය HCl ට වඩා දුබල අම්ලයකි.
46 NH_3 සහ BF_3 මිශ්‍රවීමට සැලැස්වූ විට නයිට්‍රජන් සහ බොරෝන් අතර දායක බන්ධනයක් පහසුවෙන් සෑදේ.	NH_3 ලුබ් අම්ලයක් ලෙසද, BF_3 ලුබ් හෂ්මයක් ලෙසද හැසිරේ.
47 එනිල් ඇමින් සමඟ සිසිල් $NaNO_2/HCl$ ප්‍රතික්‍රියා කරවූ විට නයිට්‍රජන් වායුව මුදා හරිය.	එනිල් ඇමින් ප්‍රාථමික ඇමීනයකි.
48 ජලීය $AgNO_3$ සහ ජලීය $Pb(NO_3)_2$ ද්‍රාවණ දෙකක් එකිනෙකින් වෙන්කර හඳුනාගැනීමට $Na_2S_2O_7$ ජලීය ද්‍රාවණයක් යොදාගත නොහැකිය.	PhS_2O_3 සහ $Ag_2S_2O_3$ යුද පැහැති අවස්ථාව වේ.
49 16 කාණ්ඩයේ හයිඩ්‍රජන් අතරින් H_2O ට ඉහල නාපාංකයක් ඇත.	H_2O හි ද්විමූලීය සුර්ණය ගුණය නොවේ.
50 උත්ප්‍රේරකයක් යෙදීම මගින් ප්‍රතික්‍රියාවකින් සෑදෙන ඵල ප්‍රමාණය වැඩිකරගත හැක.	උත්ප්‍රේරකයක් ප්‍රතික්‍රියාවේ එන්තැල්පි විපර්යාසය අඩු කරයි.



සීතාවක මධ්‍ය මහා විද්‍යාලය - අවිස්සාවේල්ල

I වාර පරීක්ෂණය -2023 (මැයි)

13 ශ්‍රේණිය

රසායන විද්‍යාව II

කාලය - පැය 02

රසායන විද්‍යාව II
Chemistry II

02

S

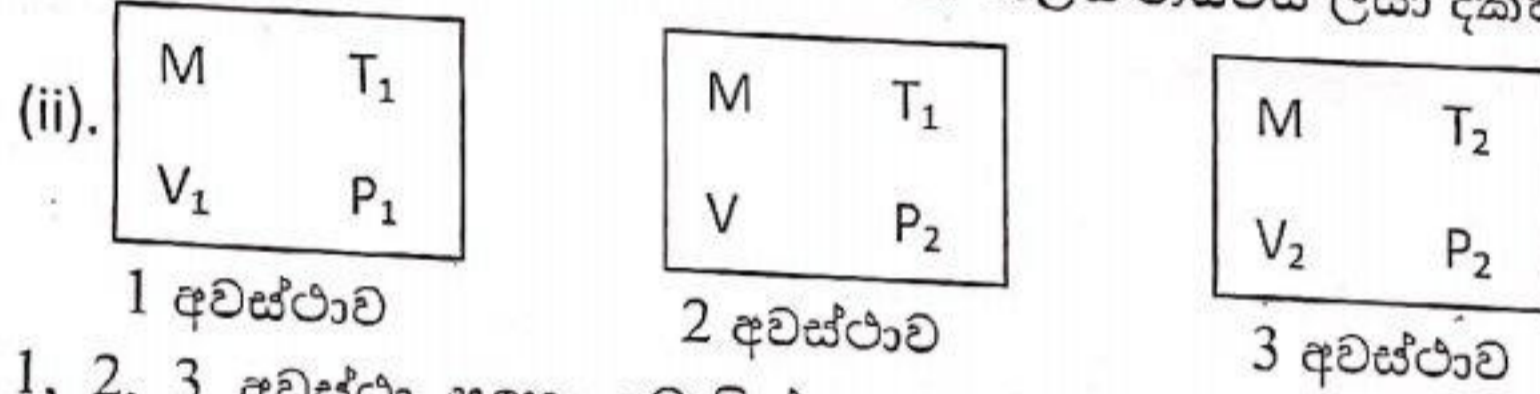
II

සාර්වත්‍ර වායු නියතය $R = 8.314 \text{ JK}^{-1} \text{ mol}^{-1}$
 ඇවගාඩ්රෝ නියතය $N_A = 6.022 \times 10^{23} \text{ mol}^{-1}$
 ආලෝකයේ ප්‍රවේගය $c = 3 \times 10^8 \text{ ms}^{-1}$
 ප්ලාන්ක් නියතය $h = 6.626 \times 10^{-34} \text{ J}$

B කොටස - රචනා

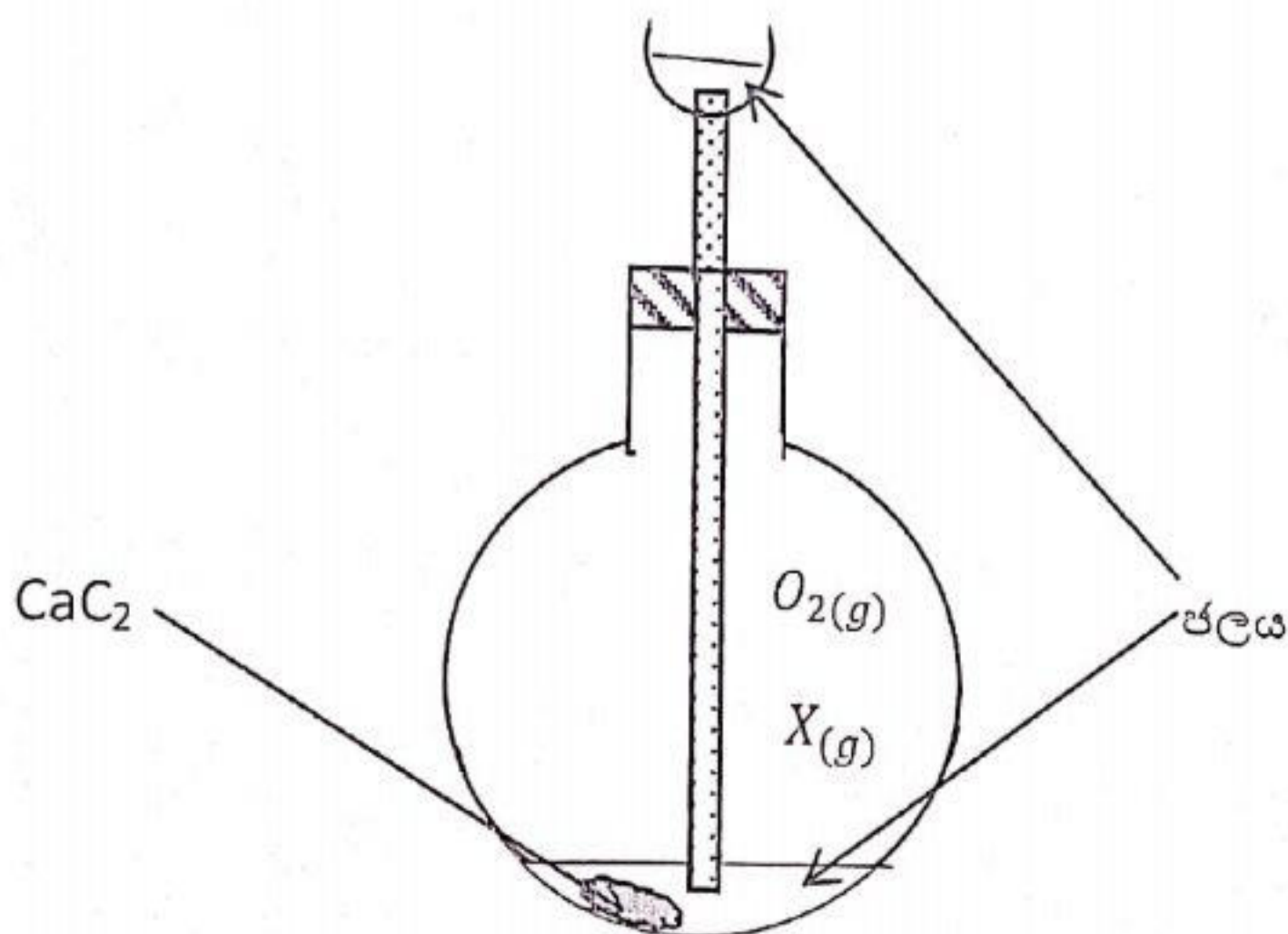
❖ ප්‍රශ්න දෙකකට පමණක් පිළිතුරු සපයන්න. (එක් ප්‍රශ්නයකට ලකුණු 15 බැගින් ලැබේ.)

5. (a) (i). වායු පිළිබඳව වූ බොයිල් නියමය සහ චාල්ස් නියමය ලියා දක්වන්න.



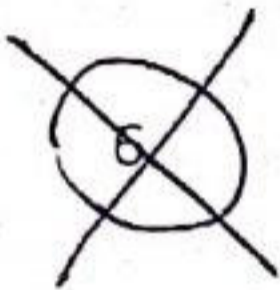
1, 2, 3 අවස්ථා සඳහා බොයිල් හා චාල්ස් නියම යොදා ගනිමින් සංයුක්ත වායු නියමය ලබාගන්න.

(b) 27⁰C දී පරිමාව 4.157 dm³ක් වූ සංවෘත දෘඪ භාජනයට කැල්සියම් කාබයිඩ් (CaC₂) M g ස්කන්ධයක් ඇතුළුකරන ලදී. එහි වූ සාමාන්‍ය වාතය සම්පූර්ණයෙන් ඉවත්කර පීඩනය 1.2 X 10⁵ Pa වන තෙක් O₂(g) වායුව ඇතුළු කරන ලදී. ඉන්පසු පහත රූපයේ දක්වා ඇති ආකාරයට භාජනයේ පරිමාවෙන් 20% ක් පිරෙන ආකාරයට ජලය එකතු කරන ලදී. එවිට භාජනය තුළ X වායුව සෑදුණු අතර භාජනය තුළ පීඩනය 1.8 X 10⁵ Pa දක්වා වැඩිවිය. පසුව විද්‍යුත් ක්‍රමයක් මගින් X(g), O₂(g) වායුව සමග සම්පූර්ණයෙන් දහනය කරන ලදී. (භාජනයේ පරිමාව සමඟ සසඳන විට CaC₂(s) හි පරිමාව නොසලකා හරින්න.) (Ca= 40, C=12)



- (i). කැල්සියම් කාබයිඩ්, ජලය සමඟ දක්වන ප්‍රතික්‍රියාව සඳහා තුලිත රසායනික සමීකරණය ලියන්න.
- (ii). එකතු කරන ලද $O_2(g)$ මවුල සංඛ්‍යාව සොයන්න.
- (iii). එකතු කරන ලද කැල්සියම් කාබයිඩ් ස්කන්ධය (M) ගණනය කරන්න.
- (iv). විද්‍යුත් ක්‍රමයක් මගින් ගිනි දැල්වීමෙන් පසුව ලැබෙන මිශ්‍රණය කාමර උෂ්ණත්වය ($27^{\circ}C$) ට පැමිණි පසු භාජනය තුළ අවසාන පීඩනය සොයන්න.

- (c). (i). නිරපේක්ෂ උෂ්ණත්වය සහ මවුලික ස්කන්ධය ඇසුරින් වායුවක වර්ග මධ්‍යන්‍ය ප්‍රවේගය සඳහා ප්‍රකාශනයක් ව්‍යුත්පන්න කරන්න.
- (ii). T උෂ්ණත්වයේදී $O_2(g)$ සහ $Y_2(g)$ වායු දෙකෙහි වර්ග මධ්‍යන්‍ය ප්‍රවේග අතර අනුපාතය 3:2 වේ නම් ගණනය කිරීමක් මගින් Y වායුව හඳුනා ගන්න. (Y ත්‍රි පරමාණුක වායුවකි.)
- (iii). තාත්වික වායුවක් සඳහා වූ වැන්ඩර්වාල්ස් සමීකරණය ලියා එහි පද හඳුන්වන්න.



- (a). (i). ප්‍රතික්‍රියාවක ආරම්භක සීඝ්‍රතාව සහ මධ්‍යක සීඝ්‍රතාව අර්ථ දක්වන්න.
- (ii). $2NO(g) + H_2(g) \rightarrow N_2O(g) + H_2O(g)$ යන ප්‍රතික්‍රියාවේ ශීඝ්‍රතාව, එක් එක් ප්‍රතික්‍රියකය සම්බන්ධයෙන් ශීඝ්‍රතාවට සහ එක් එක් ඵලය සම්බන්ධයෙන් ශීඝ්‍රතාවට දක්වන සම්බන්ධතා සඳහා ගණිතමය ප්‍රකාශනයක් ලියන්න.
- (iii). ප්‍රතික්‍රියාව ආරම්භයේ $NO(g)$ සාන්ද්‍රණය $0.016 \text{ mol dm}^{-3}$ වූ අතර තත්පර 50 කදී එය $0.006 \text{ mol dm}^{-3}$ දක්වා පහත වැටී තිබුණි නම් $N_2O(g)$ සෑදීමේ සීඝ්‍රතාව ගණනය කරන්න.

(b). $2NO_2(g) + H_2(g) \rightarrow N_2O(g) + H_2O(g)$ යන ප්‍රතික්‍රියාවේ වාලකය හැඳූරීම සඳහා සිසුන් කණ්ඩායමක් විසින් සිදුකරන ලද පරීක්ෂණ කිපයක තොරතුරු පහත වගුවේ දැක්වේ.

පරීක්ෂණ අංකය	$NO_2(g)$ සාන්ද්‍රණය mol dm^{-3}	$H_2(g)$ සාන්ද්‍රණය mol dm^{-3}	ආරම්භක ශීඝ්‍රතාව $\text{mol dm}^{-3} \text{ s}^{-1}$
1	0.016	0.01	3.15×10^{-5}
2	0.064	0.01	1.26×10^{-4}
3	0.010	0.02	R

- (i). ඉහත ප්‍රතික්‍රියාව සඳහා ශීඝ්‍රතා නියමය ගණිතමය ප්‍රකාශනයක් ආකාරයෙන් ලියන්න.
- (ii). $NO_2(g)$ ට සාපේක්ෂව ප්‍රතික්‍රියාවේ පෙළ සොයන්න.
- (iii). ශීඝ්‍රතා නියතය (K) හි අගය $5 \times 10^{-1} \text{ mol}^{-2} \text{ dm}^6 \text{ s}^{-1}$ නම් $H_2(g)$ ට සාපේක්ෂව ප්‍රතික්‍රියාවේ පෙළ අපේක්ෂණය කරන්න.
- (iv). පරීක්ෂණ අංක 3 සඳහා ශීඝ්‍රතාවය (r) ගණනය කරන්න.
- (v). ඉහත ප්‍රතික්‍රියාවේ එක් එක් ප්‍රතික්‍රියකයට සාපේක්ෂව පෙළ සහ සමස්ත පෙළ සලකා ප්‍රතික්‍රියාව කුමන ආකාරයේ ප්‍රතික්‍රියාවක් විය හැකිදැයි දක්වන්න. ඔබේ පිළිතුර පැහැදිලි කරන්න.
- (c). $2A(g) + 2B(g) \rightarrow C(g)$ යන ප්‍රතික්‍රියාව $A(g)$ ට සාපේක්ෂව ශුන්‍ය පෙළ සහ $B(g)$ ට සාපේක්ෂව පළමු පෙළ වේ.
 - (i). කිසියම් ප්‍රතික්‍රියාවක් සිදුවීමේ දී යම් ප්‍රතික්‍රියකයකට සාපේක්ෂව අර්ධ ජීව කාලය අර්ථ දක්වන්න.

~~(b)~~

A හා B යනු M නම වූ 3d ගෝලීයවේ මූලද්‍රව්‍යයක කැටායන අන්තර්ගත $MN_5H_{15}Cl_n$ යන එකම අණුක සූත්‍රය සහිත (මෙහි n යනු විචල්‍ය විය හැකි පූර්ණ සංඛ්‍යාවකි) අස්ථනලීය ජ්‍යාමිතියෙන් ද සූක්ෂ්‍ය වූ සංයෝග දෙකකි. M^{2+} කැටායනය සහිත ජලීය ද්‍රාවණයක් රෝස පැහැය ගන්නා අතර, එයට, සාන්ද්‍ර HCl ද්‍රාවණ ස්වල්පයක් එකතු කරන විට නිල් පැහැයක් ගනී.

- A සංයෝගයෙන් මවුල 0.02 කට වැඩිපුර, ජලීය $AgNO_3$ එකතු කරන ලදී. ලැබුණු සුදු අවක්ෂේපයේ ස්කන්ධය 2.87g විය.
- B සංයෝගයෙන් මවුල 0.01 කට වැඩිපුර, ජලීය $AgNO_3$ එකතු කරන ලදී. ලැබුණු සුදු අවක්ෂේපයේ ස්කන්ධය 2.87g විය.

(Ag = 108, Cl = 35.5, N = 14, O = 16)

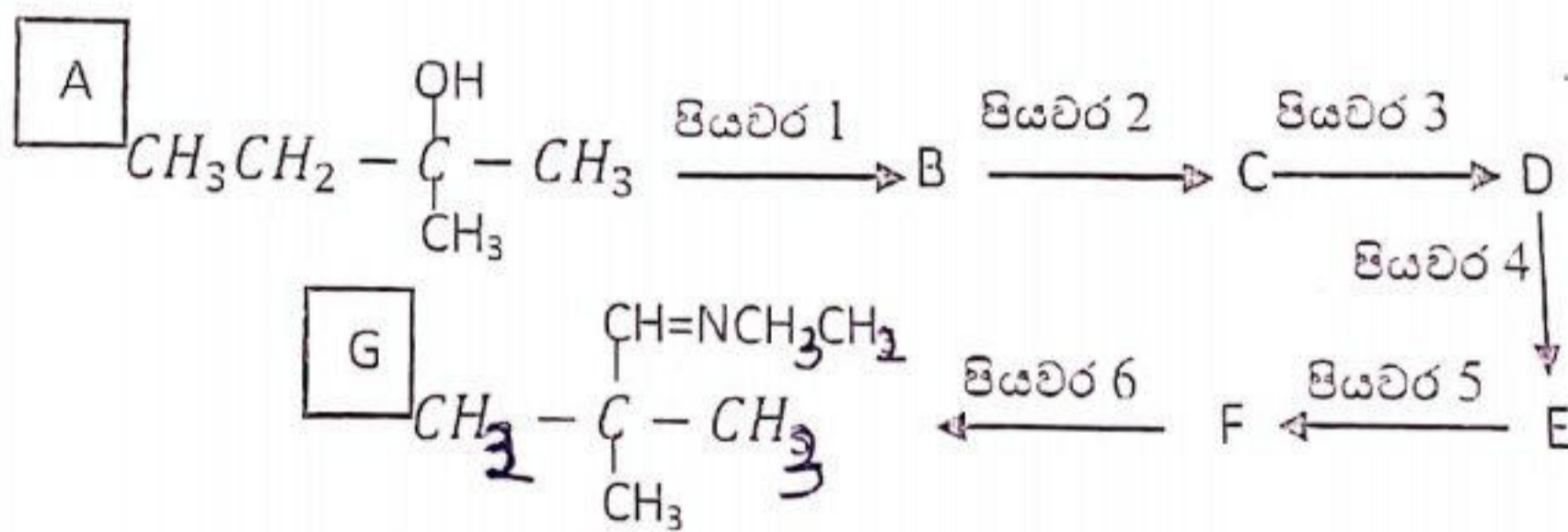
- (i). M හඳුනාගන්න.
- (ii). A හා B සංයෝගවල සූත්‍ර අපේභනය කරන්න.
- (iii). A හා B හි අන්තර්ගත M හි ඉලෙක්ට්‍රෝන වින්‍යාස ලියන්න.
- (iv). A හා B සංයෝග වල IUPAC නාම දෙන්න.
- (v). A හා B ට වැඩිපුර ඇමෝනියා එකතු කළ විට ලැබෙන සංගත සංකීර්ණවල ව්‍යුහය ලියා, ඒවායේ වර්ණ සඳහන් කරන්න.
- (vi). A ට $C_2O_4^{2-}$ අඩංගු ද්‍රාවණයක් වැඩිපුර එකතු කළ විට M සමග $C_2O_4^{2-}$ සංගත වී තලීය සමවතුරු ජ්‍යාමිතියක් සහිත සංකීර්ණයක් ලැබුණි. එහි ව්‍යුහය ඇඳ, සංගත අංකය දක්වන්න.

C කොටස - රචනා

☞ ප්‍රශ්න දෙකකට පමණක් පිළිතුරු සපයන්න. (එක් ප්‍රශ්නයකට ලකුණු 15 බැගින් ලැබේ.)

~~8.~~ (a).

A සංයෝගය G සංයෝගය බවට පරිවර්තනය කරන පහත ප්‍රතික්‍රියා අනුක්‍රමය සලකන්න.




(i). ඉහත ප්‍රතික්‍රියා අනුක්‍රමයෙහි පියවර 1 සිට පියවර 6 දක්වා ප්‍රතිකාරක පහත ලැයිස්තුවෙන් තෝරා ලියන්න.

ප්‍රතිකාරක ලැයිස්තුව

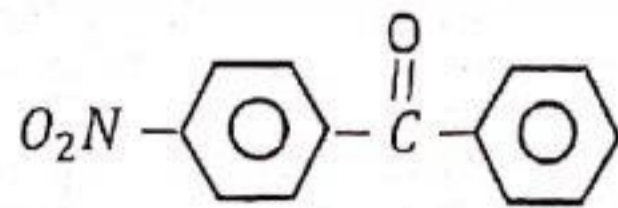
PCC , $LiAlH_4$, ජලීය KCN , H^+/H_2O , PBr_3 , $CH_3CH_2NH_2$

- (ii). B, C, D, E, F සංයෝගවල ව්‍යුහ අඳින්න.
- (iii). B, C බවට පත්වීමේදී සිදුවන ප්‍රතික්‍රියා යන්ත්‍රණය ලියන්න.

(b). (i). පියවර 3 ට නොවැඩි සංඛ්‍යාවකින් පහත පරිවර්තනය සිදුකරන්න.

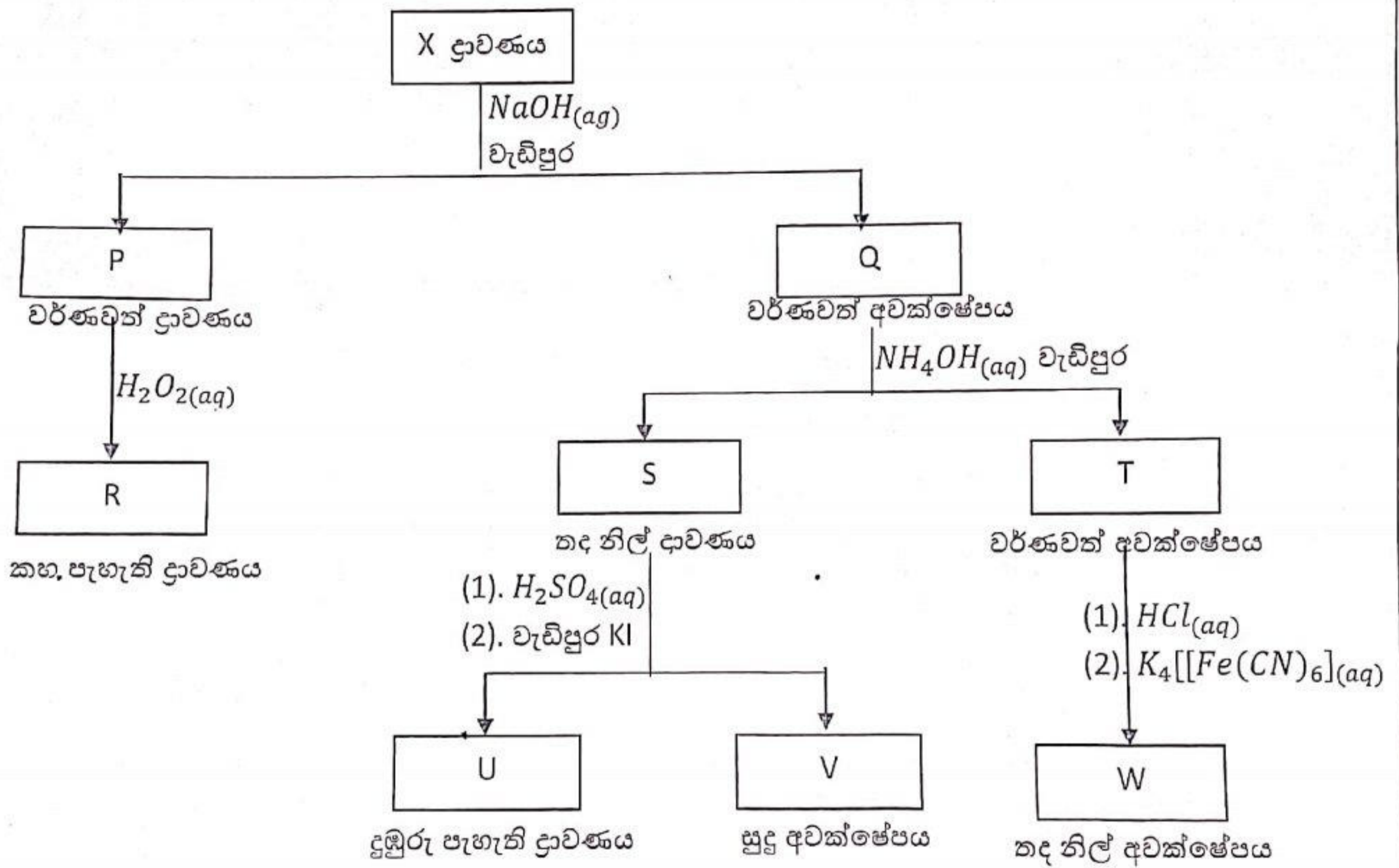


(ii). කාබනික සංයෝග ලෙස බෙන්සීන් සහ මෙනිල් ක්ලෝරයිඩ් පමණක් සහ වෙනත් සුදුසු ප්‍රතිකාරක භාවිතා කරමින් පහත සංයෝගය සංශ්ලේෂණය කරන්න.



(c). ඇමීන, ඇල්කොහොල් වලට වඩා භාෂ්මික වේ. මෙය පැහැදිලි කරන්න.

9. (a). X යනු 3d ගොනුවේ මූලද්‍රව්‍යවල කැටායන 3ක් අඩංගු ජලීය ද්‍රාවණයකි. පහත සටහනේ පරිදි X, දී ඇති පරීක්ෂාවලට භාජනය කරනු ලැබේ.



- (i). X ද්‍රාවණයේ අඩංගු කැටායන තුන හඳුනා ගන්න.
 - (ii). P, Q, R, S, T, U, V, W ප්‍රභේදවල රසායනික සූත්‍ර ලියන්න.
 - (iii). P සහ T සංයෝගවල වර්ණ සඳහන් කරන්න.
 - (iv). P සහ S හි අඩංගු සංගත සංකීර්ණ කොටසෙහි නාමය IUPAC ක්‍රමයට ලියන්න.
 - (v). P, R බවට පත්වීමට අදාළ තුලිත අයනික සමීකරණය ලියන්න.
- (b). FeO , Fe_2O_3 සහ තවත් නිෂ්ක්‍රීය ද්‍රව්‍යයක් අඩංගු සන මිශ්‍රණයක අන්තර්ගත FeO සහ Fe_2O_3 ස්කන්ධ ප්‍රතිශත නිර්ණය කිරීම සඳහා පහත පරීක්ෂා සිදුකරන ලදී.

*

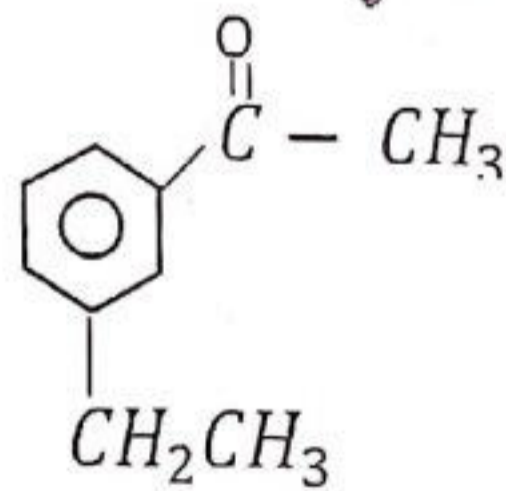
සහ මිශ්‍රණයෙන් 5g ක් ගෙන තනුක H_2SO_4 හි දියකර එයට වැඩිපුර KI එක්කරන ලදී. අනතුරුව මුළු පරිමාව 500 cm^3 වනතෙක් ආසන්න ජලය යොදන ලද අතර එය P ද්‍රාවණය ලෙස නම් කරන ලදී.

- P ද්‍රාවණයෙන් 25 cm^3 ක් ගෙන සාන්ද්‍රණය 0.125 mol dm^{-3} වූ $Na_2S_2O_3$ ද්‍රාවණයක් සමග අනුමාපනය කරන ලදී. අන්ත ලක්ෂයේ දී පාඨාංකය 10.00 cm^3 ක් විය.
- P ද්‍රාවණයෙන් තවත් 25 cm^3 ක් තනුක H_2SO_4 වලින් ආම්ලික කරන ලද, සාන්ද්‍රණය 0.02 mol dm^{-3} වන $KMnO_4$ ද්‍රාවණයක් සමග අනුමාපනය කරන ලදී. වැය වූ $KMnO_4$ පරිමාව 12.50 cm^3 විය.

- සිදු වූ ප්‍රතික්‍රියා සඳහා තුලිත සමීකරණ ලියන්න.
- පළමු අනුමාපනයේදී යොදාගත් දර්ශකය ලියා, එහි දී සිදුවන වර්ණ විපර්යාසය සඳහන් කරන්න.
- මිශ්‍රණයෙහි අඩංගු FeO සහ Fe_2O_3 ස්කන්ධ ප්‍රතිශත ගණනය කරන්න.
(Fe = 56, O = 16)

10. (a). විද්‍යාගාරයේදී ඔබ පිළියෙල කරගත් එතයින් සංයෝගය සම්බන්ධයෙන් පහත අසා ඇති ප්‍රශ්න වලට පිළිතුරු සපයන්න.

- එතයින් පිළියෙල කිරීමට යොදා ගන්නා අමුද්‍රව්‍ය මොනවා ද?
- එතයින් අසන්තෘප්ත හයිඩ්‍රොකාබනයක් වන බව පෙන්වීම සඳහා කළ හැකි එක් පරීක්ෂාවක්, ලැබෙන නිරීක්ෂණය සමග ලියන්න.
- එතයින් අග්‍රස්ථ හයිඩ්‍රජන් සහිත ඇල්කයිනයක් බව පෙන්වීමට සිදු කළ හැකි එක් පරීක්ෂාවක්, එහිදී ලැබෙන නිරීක්ෂණ සමග ලියා එම නිරීක්ෂණයට අදාළ වූ ඵලයේ ව්‍යුහය ද අඳින්න.
- එකම කාබනික සංයෝගය ලෙස එතයින් යෙදාගෙන $CH_3\overset{\text{Br}}{\underset{|}{\text{C}}}\text{CH}_2\text{CH}_3$ සංස්ලේෂණය කරන්න.
- එතයින් සහ බෙන්සීන් කාබනික සංයෝග ලෙස යොදා ගනිමින් පියවර 7කට නොවැඩි පියවර සංඛ්‍යාවකින් පහත දැක්වෙන සංයෝගය සෑදීම සඳහා පරිවර්තන ඉදිරිපත් කරන්න.



(b). පහත දක්වා ඇති ප්‍රශ්න නයිට්‍රජන් සහ එහි සංයෝගවල රසායනය හා සම්බන්ධ වේ.

- නයිට්‍රික් අම්ලය ආලෝකය හමුවේ සිදුවන ආලෝක - ප්‍රේරිත වියෝජනය සඳහා තුලිත රසායනික සමීකරණය ලියන්න.
- නයිට්‍රික් අම්ලය සහ ඇමෝනියා වායුවෙහි ඔක්සිකාරක ගුණ පෙන්වීම සඳහා තුලිත සමීකරණ එක බැගින් දෙන්න.
- විද්‍යාගාරයේදී නයිට්‍රජන් වායුව ලබාගැනීමට යොදා ගත හැකි ඇමෝනියම් ලවණ දෙකක් සඳහන් කරන්න.

- (iv). ඔබට NO_2^- , NO_3^- සහ NH_4^+ අඩංගු ජලීය ද්‍රාවණ තුනක් සපයා ඇත. (NO_2^- හා NO_3^- සමඟ NH_4^+ අන්තර්ගත නොවේ. එමෙන්ම NH_4^+ සමඟ NO_2^- හෝ NO_3^- අයන අඩංගු නැත.) තනුක අම්ලයක් සහ තනුක භෂ්මයක් යොදාගෙන ද්‍රාවණ තුන වෙන්කර හඳුනාගන්නා ආකාරය කෙටියෙන් දක්වන්න.
- * (v). NO_3^- අන්තර්ගත සහ මිශ්‍රණයකින් 5g ක් තනුක $NaOH$ තුළ හොඳින් දියකර එයට Al කුඩු දමා උණුසුම් කරන ලදී. එවිට පිටවූ වායුව සාන්ද්‍රණය 1 mol dm^{-3} වූ HCl අම්ල 50 cm^3 ක් තුළට අවශෝෂණය කරවන ලදී. මෙම මිශ්‍රණයෙහි ඉතිරිව ඇති HCl ප්‍රමාණය, සාන්ද්‍රණය 0.5 mol dm^{-3} වන $NaOH$ සමඟ අනුමාපනය කරන ලදී. එහි දී බියුරෙට්ටු පාඨාංකය 20 cm^3 විය. මිශ්‍රණයේ අඩංගු NO_3^- ස්කන්ධ ප්‍රතිශතය සොයන්න. (N = 14, O = 16)



PAST PAPERS
WIKI